

## 4

## 加法(二)

姓名：\_\_\_\_\_

班別：\_\_\_\_\_ 日期：\_\_\_\_\_

我答對了：



0-6 題



7-12 題



13-17 題

算算看。

$$\begin{array}{r} 1 \quad 207 \\ + \quad 53 \\ \hline \square \end{array}$$

$$\begin{array}{r} 2 \quad 420 \\ + \quad 493 \\ \hline \square \end{array}$$

$$\begin{array}{r} 3 \quad 135 \\ + \quad 246 \\ \hline \square \end{array}$$

$$\begin{array}{r} 4 \quad 361 \\ \quad 34 \\ + \quad 70 \\ \hline \square \end{array}$$

$$\begin{array}{r} 5 \quad 402 \\ \quad 88 \\ + \quad 304 \\ \hline \square \end{array}$$

$$\begin{array}{r} 6 \quad 215 \\ \quad 233 \\ + \quad 191 \\ \hline \square \end{array}$$

$$7 \quad 70 + 482 = \square$$

$$8 \quad 316 + 624 = \square$$

$$9 \quad 517 + 229 + 41 = \square$$

$$10 \quad 110 + 195 + 123 = \square$$

連連看。

$$11 \quad 329 + 104$$

$$12 \quad 216 + 247$$

$$13 \quad 271 + 182$$

$$463$$

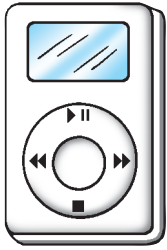
$$453$$

$$443$$

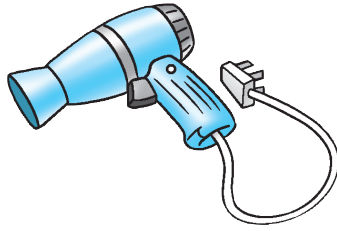
$$433$$

$$423$$

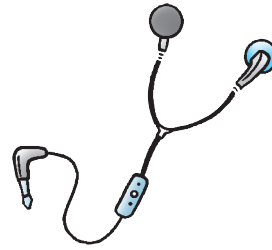
## 買電器



\$ 563



\$ 255



\$ 110



\$ 282

列式計算下列各題。

- 14 買一部  和一個 ，共付多少元？

$$\begin{aligned} \text{共付：} & 563 + \square \\ & = \square \text{ (元)} \end{aligned}$$

$$\begin{array}{r} 563 \\ + \square \\ \hline \square \end{array}$$

- 15 買一個  和一台 ，共付多少元？


$$\begin{aligned} \text{共付：} & \square \bigcirc \square \\ & = \square \text{ (元)} \end{aligned}$$

$$\begin{array}{r} \square \\ \bigcirc \square \\ \hline \square \end{array}$$

- 16 電器店上月售出 106 部 ，本月售出 217 部，

這兩個月共售出  多少部？

這兩個月共售出 ：\_\_\_\_\_



- 17 買一部 、一個  和一台 ，共付多少元？

\_\_\_\_\_

\_\_\_\_\_

