

姓名：_____

班別：_____ 日期：_____

我答對了：



0-4 題



5-9 題



10-13 題


看圖填一填。

1




$3 \times 2 = \boxed{6}$

2



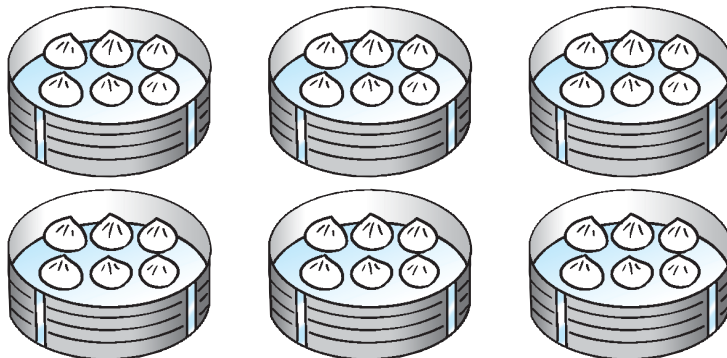
$3 \times 5 = \boxed{15}$

3



$6 \times 3 = \boxed{18}$

4



$6 \times 6 = \boxed{36}$

算算看。

$$\begin{array}{r} 5 \quad 3 \\ \times 3 \\ \hline \end{array}$$

9

$$\begin{array}{r} 6 \quad 6 \\ \times 1 \\ \hline \end{array}$$

6

$$\begin{array}{r} 7 \quad 6 \\ \times 5 \\ \hline \end{array}$$

30

8 $3 \times 10 =$ 30

9 $3 \times 7 =$ 21

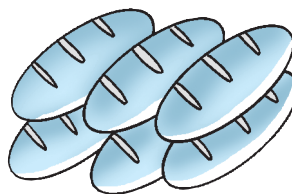
10 $6 \times 9 =$ 54

列式計算下列各題。

- 11 一個麵包售 3 元，6 個麵包共售多少元？

共售：

$$3 \times 6 = 18 \text{ (元)}$$



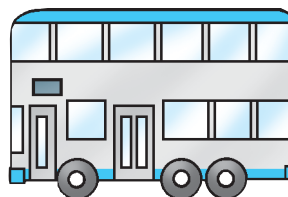
$$\begin{array}{r} 3 \\ \times 6 \\ \hline \end{array}$$

18

- 12 一輛巴士有 6 個車輪，4 輛巴士共有車輪多少個？

共有車輪：

$$6 \times 4 = 24 \text{ (個)}$$



$$\begin{array}{r} 6 \\ \times 4 \\ \hline \end{array}$$

24

- 13 志光有 6 張貼紙，子欣有的是他的 10 倍，子欣有貼紙多少張？

子欣有貼紙：

$$6 \times 10$$

$$= 60 \text{ (張)}$$

$$\begin{array}{r} 6 \\ \times 10 \\ \hline \end{array}$$

60