

姓名： _____

班別： _____ 日期： _____

我答對了：



0-4 題



5-8 題

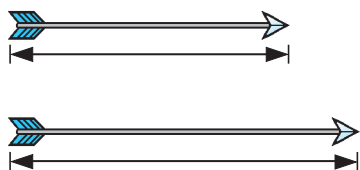


9-12 題

圈出答案。

1

較長的



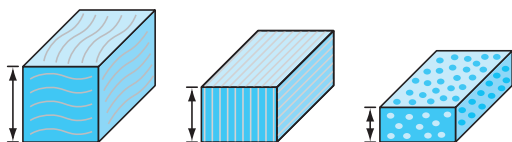
2

較厚的



連連看。


3



●
最厚

●
最薄

4



●
最闊

●
最窄


5



●
最長

●
最短

6



●
最高


●
最矮

依右圖圈出適當的答案。

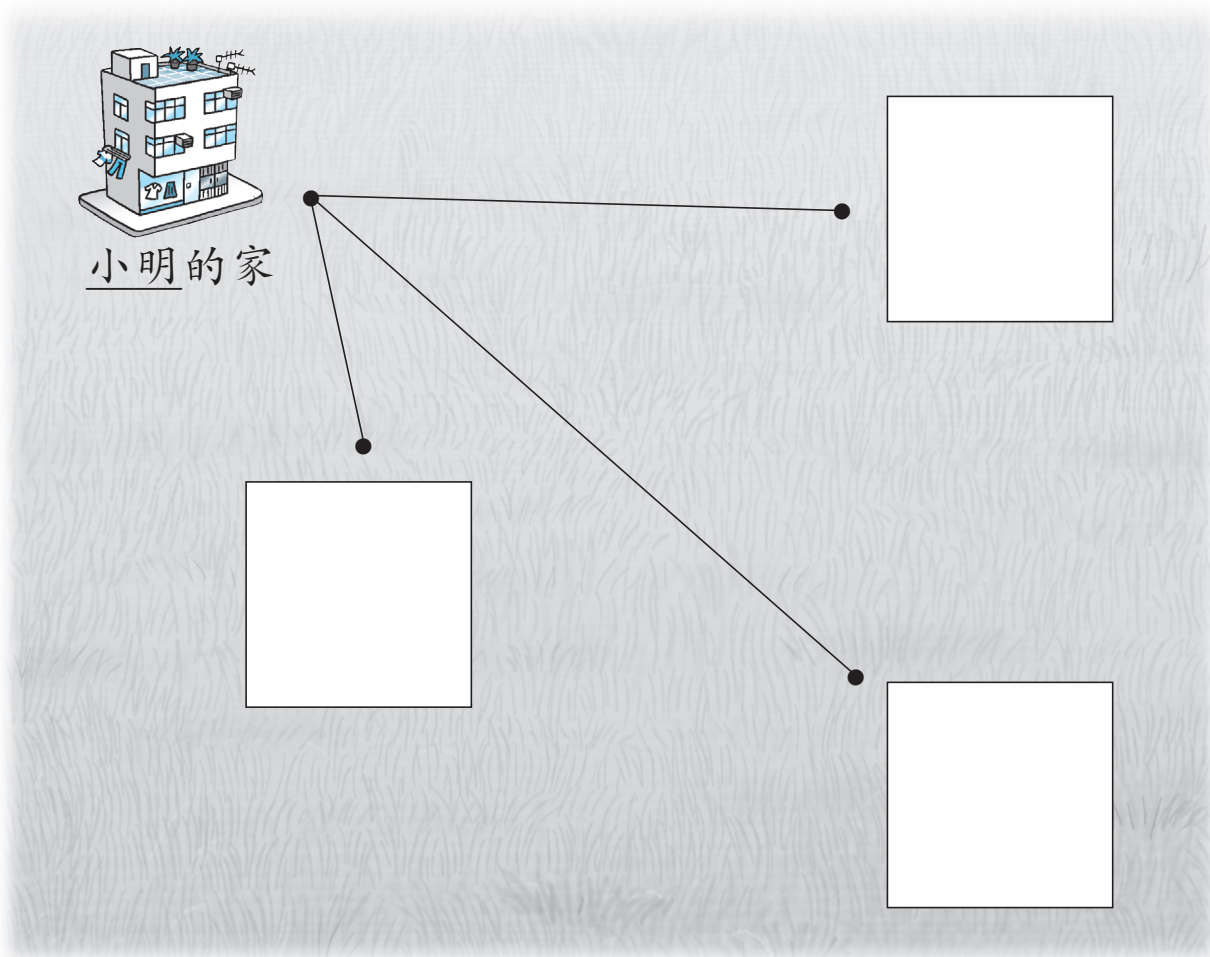
7 梯子比小孩（高 / 矮）。



8 小孩比小狗（高 / 矮）。

9 小狗比梯子（高 / 矮）。



從貼紙頁中取出各種設施圖，依指示貼在下面的空格內。



10  距離  最遠。

11  距離  最近。

12  在餘下一格的位置。