

姓名：_____

班別：_____ 日期：_____

我答對了：



0-3 題



4-7 題






8-10 題

看圖算一算。




1

共有  ^{熊貓} : $6 + 5 =$


2

共有  ^{駱駝} : $8 + 6 =$

3

共有  ^{拼圖} : $9 + 7 =$

4



共有  ^{小雞} : $4 + 8 =$ 12

在適當的圈內加「✓」。

5 $9 + 8 = ?$

 16 17 18 19

6 $8 + 5 = ?$

 13 14 15 167 下列哪個加法的結果 **不是** 12 ? $6 + 6$ $5 + 7$ $3 + 9$ $8 + 8$

連連看。

8 $9 + 9$

• 13

9 $7 + 8$

• 15

10 $6 + 5$

• 11

• 18