

14

百分數和小數互化

姓名：_____

班別：_____ 日期：_____

我答對了：



0-7 題



8-14 題



15-21 題

把下列各百分數化為小數。

1 $6\% = \frac{\square}{100} = \underline{\hspace{2cm}}$

2 $71\% = \frac{\square}{100} = \underline{\hspace{2cm}}$

3 $168\% = \frac{\square}{\square} = \underline{\hspace{2cm}}$

4 $1000\% = \frac{\square}{\square} = \underline{\hspace{2cm}}$

5 $0.3\% = \frac{\square}{\square} = \underline{\hspace{2cm}}$

6 $2.5\% = \frac{\square}{\square} = \underline{\hspace{2cm}}$

把下列各小數化為百分數。

7 $0.31 = \square\%$

8 $3.77 = \square\%$

9 $0.8 = \square\%$


10 $2.4 = \square\%$

11 $0.53 = \square\%$

12 $4.56 = \square\%$


把下列各數由大至小排列，填填看。

13




_____ > _____ > _____

14



_____ > _____ > _____

回答下列各題。

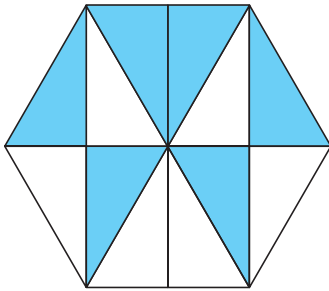


今天我在文具店共用去 100 元。
買顏色筆用去全部款項的 0.34，
買記事簿用去全部款項的 0.5，
用餘下的款項買了一些原子筆。

- 15 凱麗買顏色筆的款項佔全部的 _____ %。
- 16 買記事簿的款項佔凱麗全部的 _____ %。
- 17 凱麗買原子筆的款項佔全部的 _____ %。
- 18 凱麗買顏色筆和原子筆共用去 _____ 元。

下列各圖中着色部分佔全圖的多少？用最簡分數、百分數和小數表示出來。

19

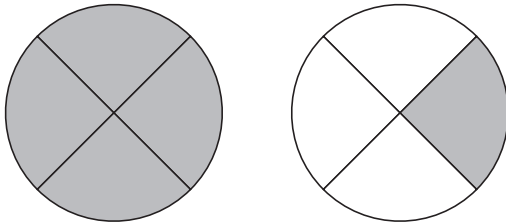


最簡分數：_____

百分數：_____ %

小數：_____

20

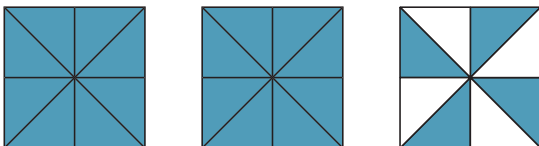


最簡分數：_____

百分數：_____ %

小數：_____

21



最簡分數：_____

百分數：_____ %

小數：_____