


# 1 百分率的應用(一)

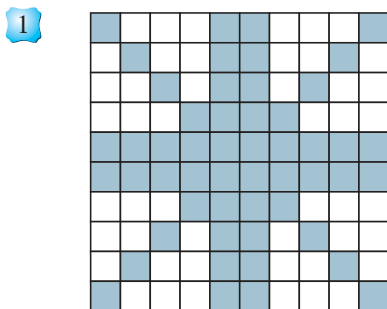
姓名：\_\_\_\_\_

班別：\_\_\_\_\_ 日期：\_\_\_\_\_

我答對了：

 0-5 題  6-10 題  11-15 題

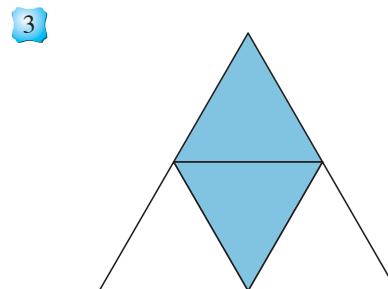
觀察下列各圖，填寫各着色部分佔全圖的百分率。



%



%



%

填填看。

4  $\frac{37}{100} = \text{} \%$

5  $\frac{26}{26} = \text{} \%$

6  $\frac{23}{50} = \text{} \%$

收集寒衣

4 位小朋友共捐出 50 件寒衣。

7 我捐出 12 件寒衣，  
佔全部的  %。

8 我捐出 8 件寒衣，  
佔全部的  %。



9 我捐出的寒衣佔全部的  
28%，即捐出了  件。

10 我捐出的寒衣佔全部的  
32%，即捐出了  件。

11 4 位小朋友捐出的衣物共佔全部的 100 %。