



5

圓的認識(二)

姓名：_____

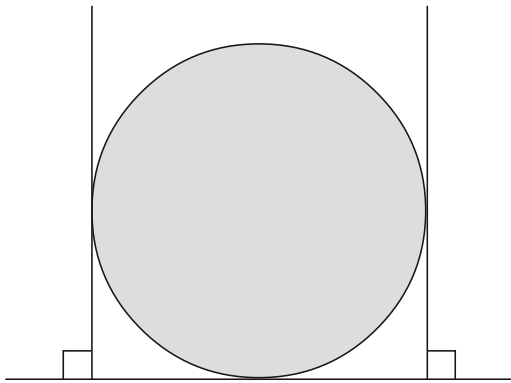
班別：_____ 日期：_____

我答對了：

0-4 題 5-7 題 8-10 題

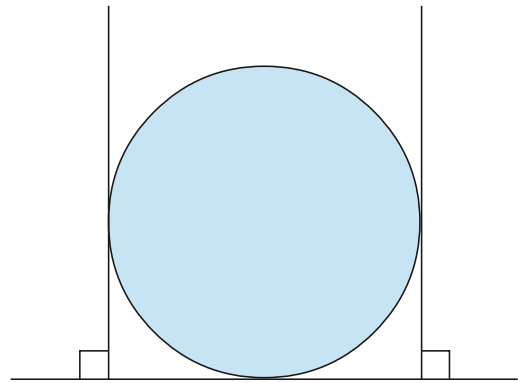
量度下列各圖中圓的直徑。

1



直徑：_____ cm


2



直徑：_____ cm


找出下列各圓的圓心位置，在旁邊寫上英文字母 O，然後量度各圓的直徑。

3



直徑：_____ cm

4



直徑：_____ cm