

姓名： _____

班別： _____ 日期： _____

我答對了：



0-3 題



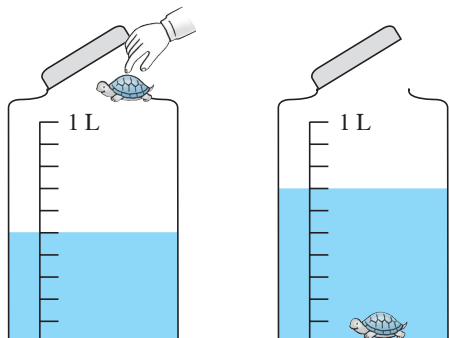
4-7 題



8-10 題

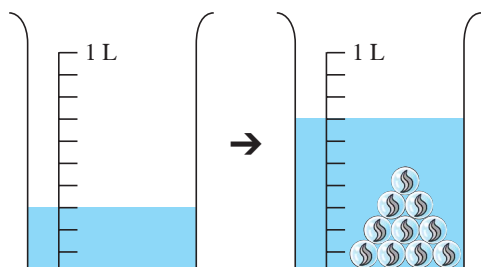
求下列各物件的體積。

1



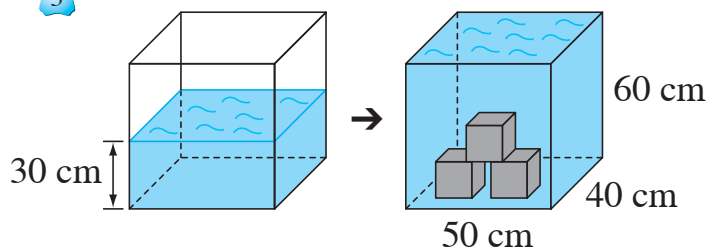
小龜的體積是 200 立方厘米。

2



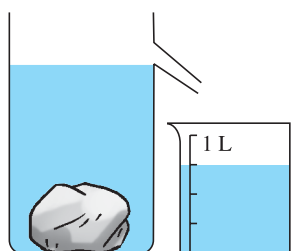
每粒 的體積是 40 cm^3 。

3




每個 的體積是 20 000 cm^3 。

4



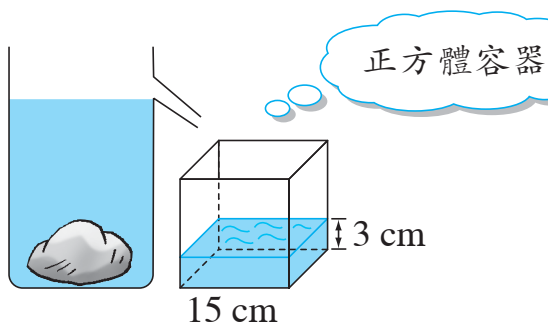
的體積是 750 cm^3 。

5



的體積是：450 cm^3 。

6



的體積是 675 cm^3 。

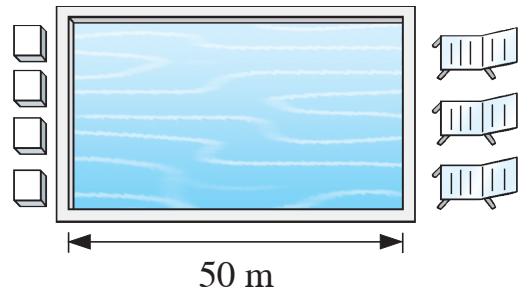
列式計算下列各題。

- 7 右圖是一個闊 30 米，深 2.5 米的游泳池。

游泳池最多可盛載水多少立方米？

最多可盛載水：

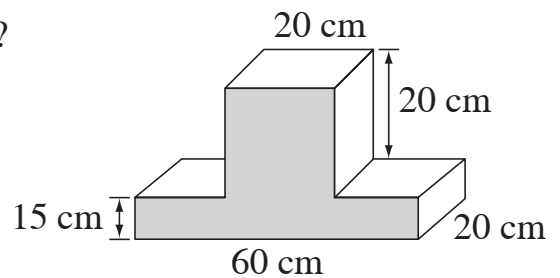
$$\begin{aligned} & \underline{50 \times 30 \times 2.5} \\ = & \underline{3750} \text{ (立方米)} \end{aligned}$$



- 8 右圖的整個立體的體積是多少立方厘米？

整個立體的體積是：

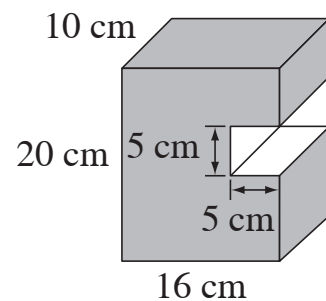
$$\begin{aligned} & \underline{60 \times 20 \times 15 + 20 \times 20 \times 20} \\ = & \underline{26\,000} \text{ (立方厘米)} \end{aligned}$$



- 9 右圖的整個立體的體積是多少立方厘米？

整個立體的體積是：

$$\begin{aligned} & \underline{20 \times 16 \times 10 - 10 \times 5 \times 5} \\ = & \underline{2950} \text{ (立方厘米)} \end{aligned}$$



- 10 凱麗把魚缸注了一半的水後，放入 10 條金魚。金魚的體積共是多少立方厘米？

金魚的體積共是：

$$\begin{aligned} & \underline{75 \times 20 \times (16 - 30 \div 2)} \\ = & \underline{1500} \text{ (立方厘米)} \end{aligned}$$

