

姓名： _____

班別： _____ 日期： _____

我答對了：



0-3 題



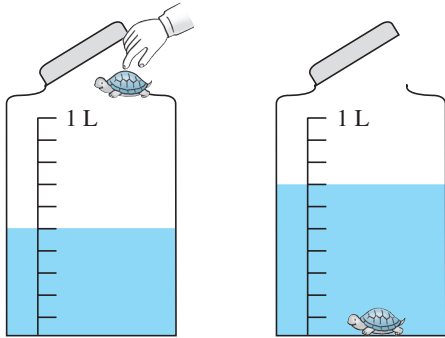
4-7 題



8-10 題

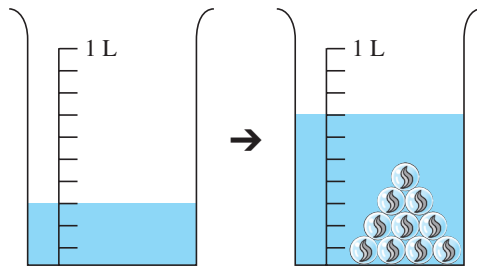
求下列各物件的體積。

1



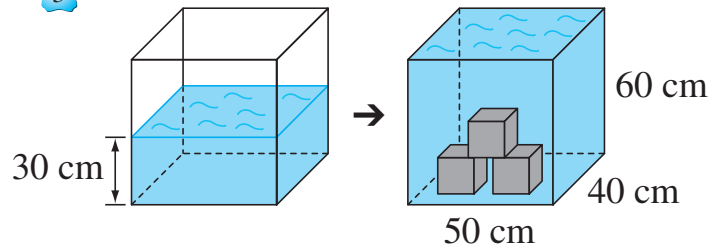
小龜的體積是 _____ 立方厘米。

2




每粒 的體積是 _____ cm^3 。

3




每個 的體積是 _____ cm^3 。

4



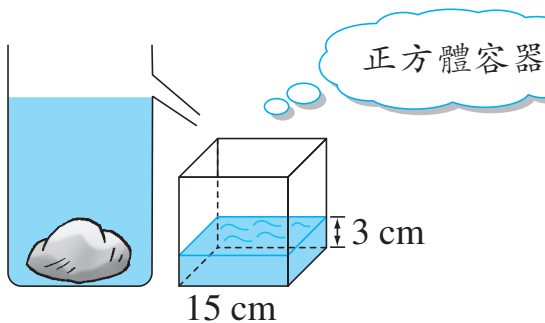
的體積是 _____ cm^3 。

5



的體積是： _____ cm^3 。

6



的體積是 _____ cm^3 。

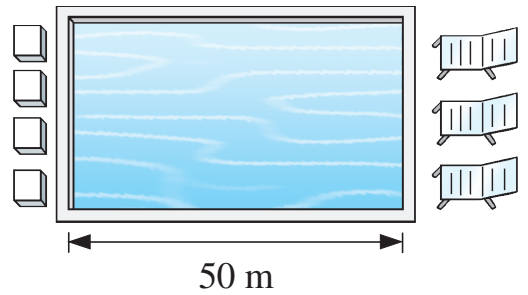
列式計算下列各題。

7 右圖是一個闊 30 米，深 2.5 米的游泳池。

游泳池最多可盛載水多少立方米？

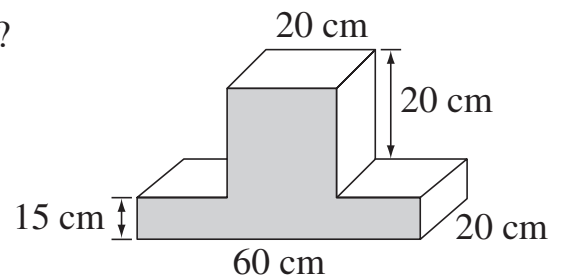
最多可盛載水：

= _____ (立方米)

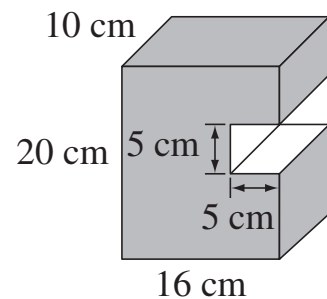


8 右圖的整個立體的體積是多少立方厘米？

整個立體的體積是：



9 右圖的整個立體的體積是多少立方厘米？



10 凱麗把魚缸注了一半的水後，放入 10 條金魚。金魚的體積共是多少立方厘米？

