

4

圓的認識(一)

姓名：_____

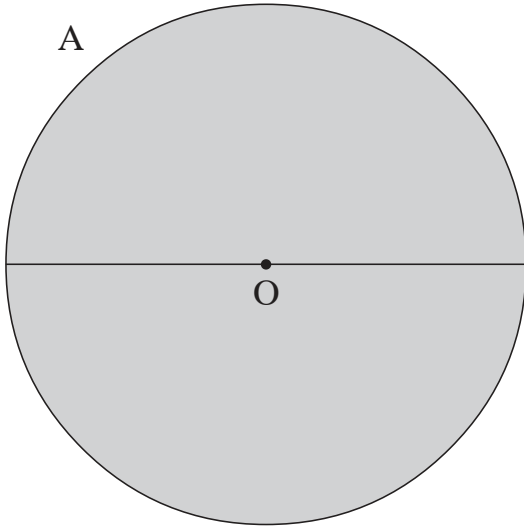
班別：_____ 日期：_____

我答對了：

0-5 題 6-10 題 11-15 題

下列各圖中，O 是圓心，試量度各圓的直徑和半徑。

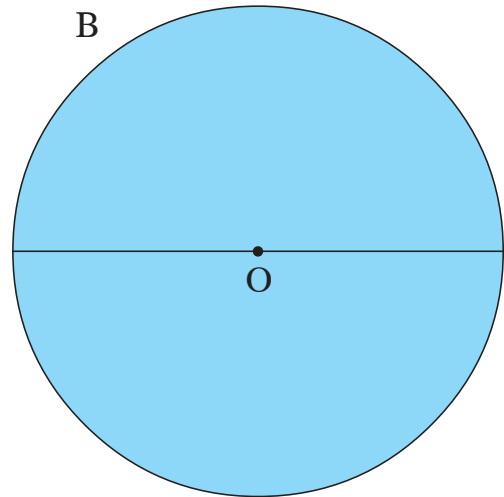
1



直徑：7 cm

半徑：3.5 cm

2

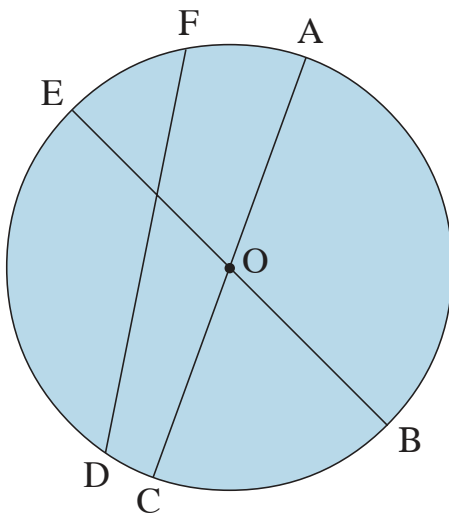


直徑：6.6 cm

半徑：3.3 cm

3 上面的兩個圓中，圓(A / B)較大。

填填看。



左圖中，OA 是半徑。

4 O 是圓心。

5 除 OA 外，OB，OC 和 OE 都是半徑。

6 EB 和 AC 是直徑。

7 這個圓的直徑是 6 厘米，半徑是 3 厘米。

8 直徑是半徑的 2 倍。