

4

圓的認識(一)

姓名：_____

班別：_____ 日期：_____

我答對了：



0-5 題



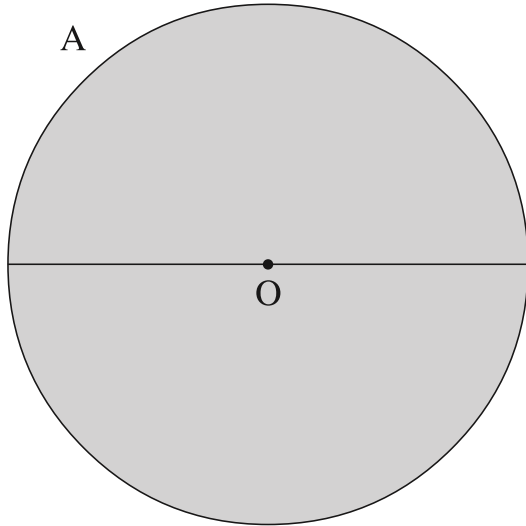
6-10 題



11-15 題

下列各圖中，O 是圓心，試量度各圓的直徑和半徑。

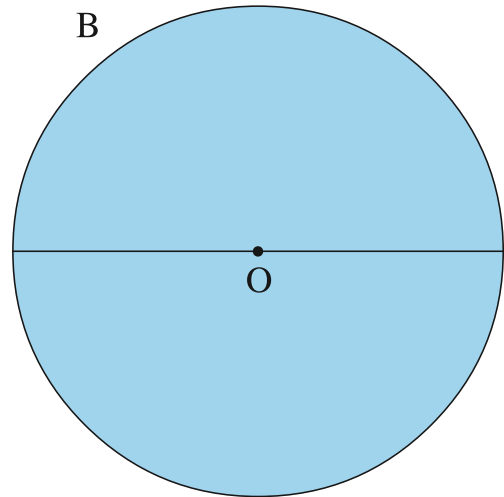
1



直徑：_____ cm

半徑：_____ cm

2

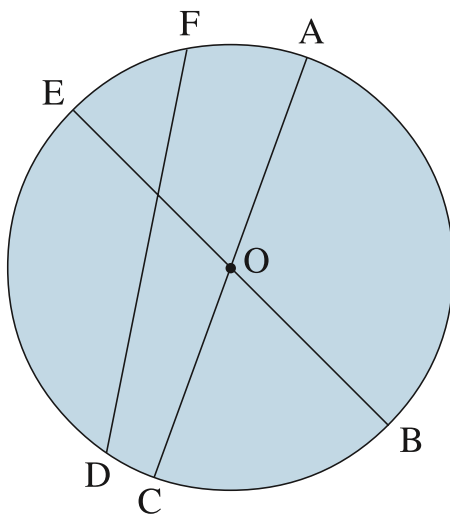


直徑：_____ cm

半徑：_____ cm

3 上面的兩個圓中，圓 (A / B) 較大。

填填看。



左圖中，OA 是半徑。

- 4 _____ 是圓心。
- 5 除 OA 外，_____, _____ 和 _____ 都是半徑。
- 6 _____ 和 _____ 是直徑。
- 7 這個圓的直徑是 _____ 厘米，半徑是 _____ 厘米。
- 8 直徑是半徑的 _____ 倍。