

姓名：_____

班別：_____ 日期：_____

我答對了：



0-4 題



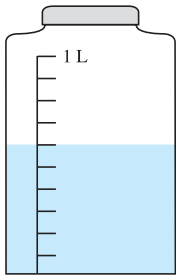
5-8 題



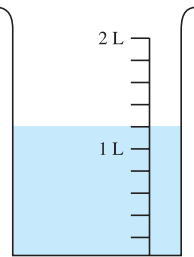
9-12 題

求下列各容器內的水的體積。

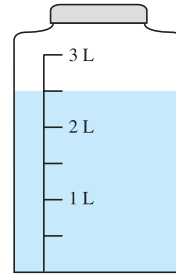
1

600 cm^3

2

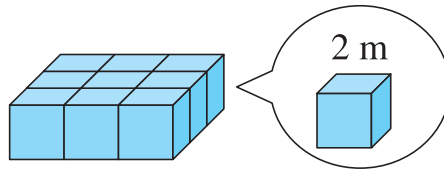
1200 毫升

3

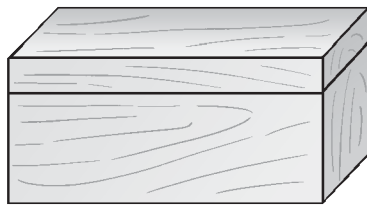


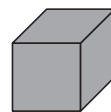
2.5 升

算算看。

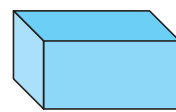
以下的立體，由相同的正方體砌成。

4 每個正方體的體積是 8 立方米。5 整個立體的體積是 72 立方米。

下圖中，積木盒的內部長 20 cm，闊 15 cm，高 10 cm。

6 這個積木盒可存放 3000 個正方體 。7 這個積木盒可存放 1500 個 。

1 cm

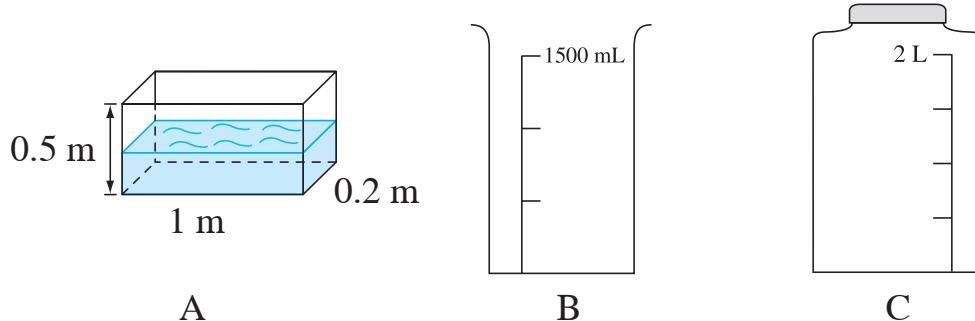


2 cm

1 cm
1 cm

把下列各容器的容量由大至小排列，填填看。

8



容器 A > 容器 C > 容器 B

在適當的圈內加「✓」。

9

10.5 升相等於多少立方厘米？

- 0.105 立方厘米 1050 立方厘米
 10 500 立方厘米 105 000 立方厘米

10

$155 \frac{2}{5}$ 毫升相等於多少升？

- 155 400 升 15.54 升
 1.554 升 0.1554 升

11

把一瓶 2 公升的可樂分給小朋友，每人 200 毫升。這瓶可樂共可分給小朋友多少個？

- 5 個 10 個
 50 個 100 個



12

右圖中，兩個容器內的水共有多少升？

- 6 升 6.5 升
 7.5 升 8 升

