

姓名： \_\_\_\_\_

班別： \_\_\_\_\_ 日期： \_\_\_\_\_

我答對了：



0-4 題



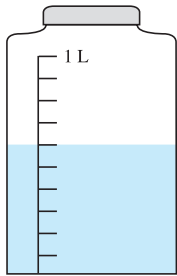
5-8 題



9-12 題

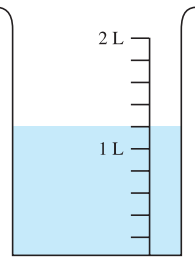
求下列各容器內的水的體積。

1



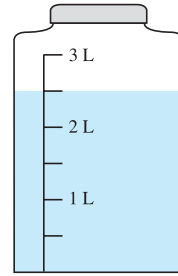
\_\_\_\_\_  $\text{cm}^3$

2



\_\_\_\_\_ 毫升

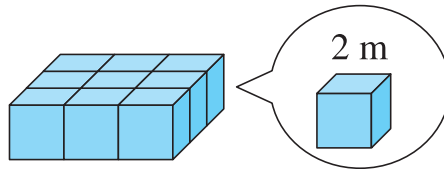
3



\_\_\_\_\_ 升

算算看。


以下的立體，由相同的正方體砌成。




4 每個正方體的體積是 \_\_\_\_\_ 立方米。

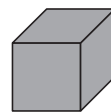
5 整個立體的體積是 \_\_\_\_\_ 立方米。

下圖中，積木盒的內部長 20 cm，闊 15 cm，高 10 cm。

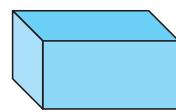


6 這個積木盒可存放 \_\_\_\_\_ 個正方體 。

7 這個積木盒可存放 \_\_\_\_\_ 個 。



1 cm



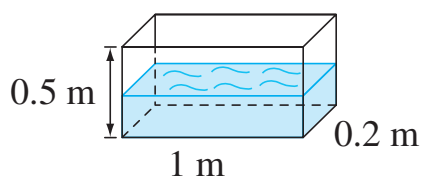
2 cm

1 cm

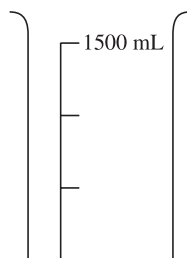
1 cm

把下列各容器的容量由大至小排列，填填看。

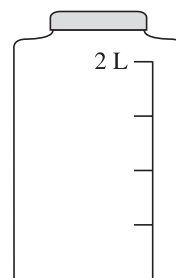
8



A



B



C

容器 \_\_\_\_\_ > 容器 \_\_\_\_\_ > 容器 \_\_\_\_\_

在適當的圈內加「✓」。

9

10.5 升相等於多少立方厘米？

0.105 立方厘米

1050 立方厘米

10 500 立方厘米

105 000 立方厘米

10

$155 \frac{2}{5}$  毫升相等於多少升？

155 400 升

15.54 升

1.554 升

0.1554 升

11

把一瓶 2 公升的可樂分給小朋友，每人 200 毫升。

這瓶可樂共可分給小朋友多少個？

5 個

10 個

50 個

100 個



12

右圖中，兩個容器內的水共有多少升？

6 升

6.5 升

7.5 升

8 升

