

# 3

## 折扣





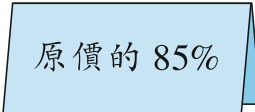


姓名：\_\_\_\_\_

班別：\_\_\_\_\_ 日期：\_\_\_\_\_

我答對了：

 0-4 題  5-8 題  9-12 題

下面各折扣分別表示原價的多少 % ? 在空格內填寫英文字母。

<b>1</b>  <input type="checkbox"/>	<b>2</b>  <input type="checkbox"/>	<b>3</b>  <input type="checkbox"/>	<b>4</b>  <input type="checkbox"/>
<b>(A)</b> 	<b>(B)</b> 	<b>(C)</b> 	

列式計算下列各題。

- 5** 媽媽買了一件外衣，原價 300 元，現以八折出售，應付多少元？

應付：  $300 \times \square \%$   
 $= \underline{\hspace{2cm}}$   
 $= \underline{\hspace{2cm}} \text{ (元)}$



- 6** 爸爸以 150 元買得一條原價 250 元的西褲，折扣是多少？

折扣是：  $\frac{\square}{\square} \times \square \%$   
 $= \underline{\hspace{2cm}} \%$ ，即  $\underline{\hspace{2cm}}$  折



- 7** 表哥買了原價共值 800 元的貨品，獲減 80 元，折扣是多少？

折扣是：  $\underline{\hspace{2cm}}$   
 $= \underline{\hspace{2cm}}$   
 $= \underline{\hspace{2cm}} \%$ ，即  $\underline{\hspace{2cm}}$  折

