



9 梯形的面積

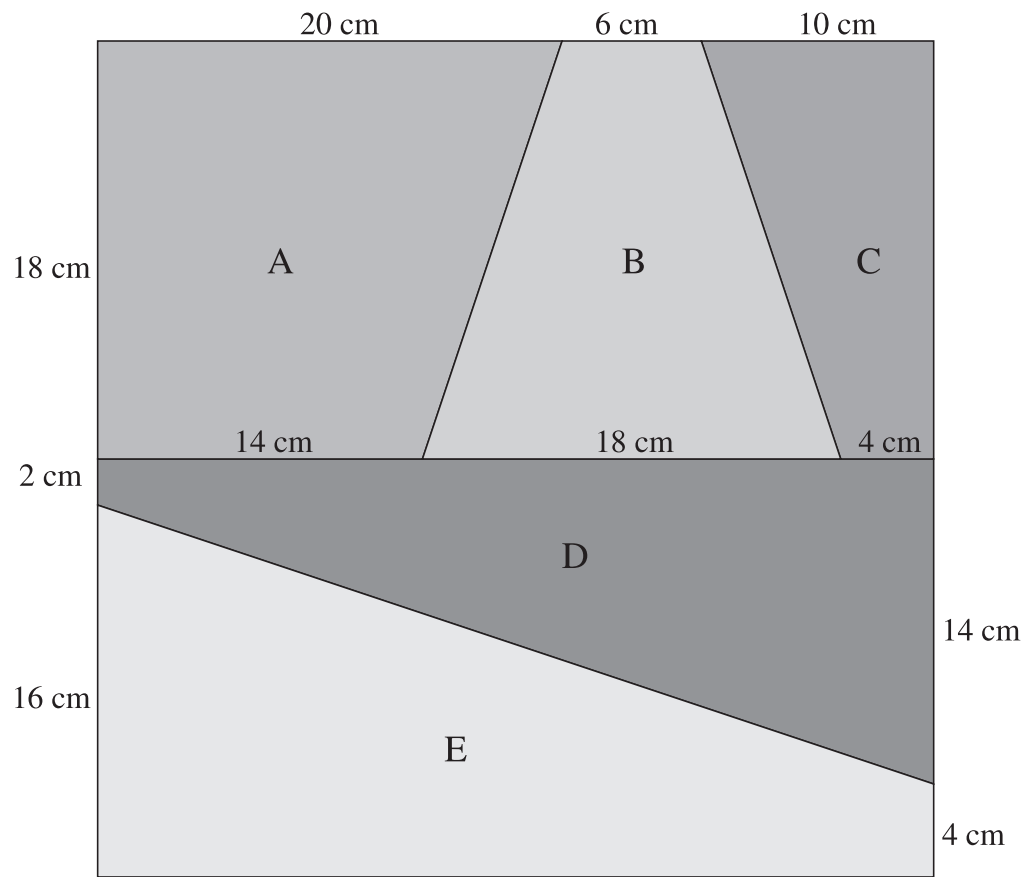
姓名： _____

班別： _____ 日期： _____

我答對了： _____

🤖 0-3 題 🤖 4-6 題 🤖 7-9 題

看圖填一填。



- 1
- 2
- 3
- 4
- 5

梯形	上底 (cm)	下底 (cm)	高 (cm)	面積 (cm ²)
A				
B				
C				
D				
E				

依指示回答下列各題。

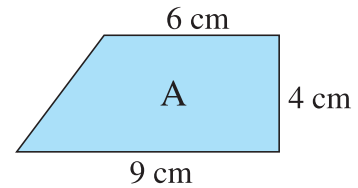
6 計算梯形 A 的面積。

上底是 _____ 厘米，下底是 _____ 厘米，

高是 _____ 厘米。

它的面積是： _____

= _____ (平方厘米)



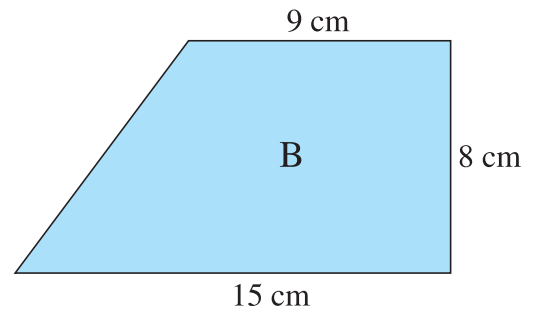
7 計算梯形 B 的面積。

上底是 _____ 厘米，下底是 _____ 厘米，

高是 _____ 厘米。

它的面積是： _____

= _____ (平方厘米)



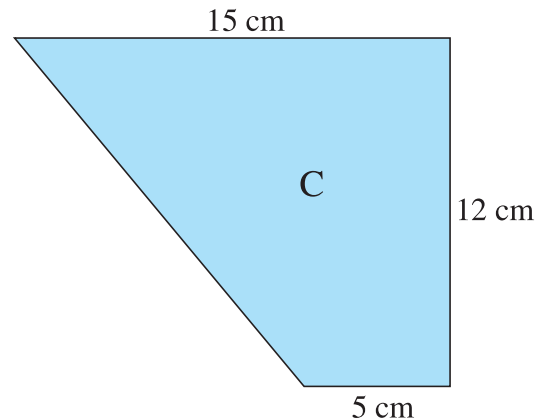
8 計算梯形 C 的面積。

上底是 _____ 厘米，下底是 _____ 厘米，


高是 _____ 厘米。

它的面積是： _____

= _____ (平方厘米)



9 梯形 A、B 和 C 能拼出哪一種四邊形？試從剪貼頁取出圖形拼砌，貼在下面。



這是一個 _____ 形。