

5

立體圖形(二)

姓名：_____

班別：_____ 日期：_____

我答對了：



0-4 題



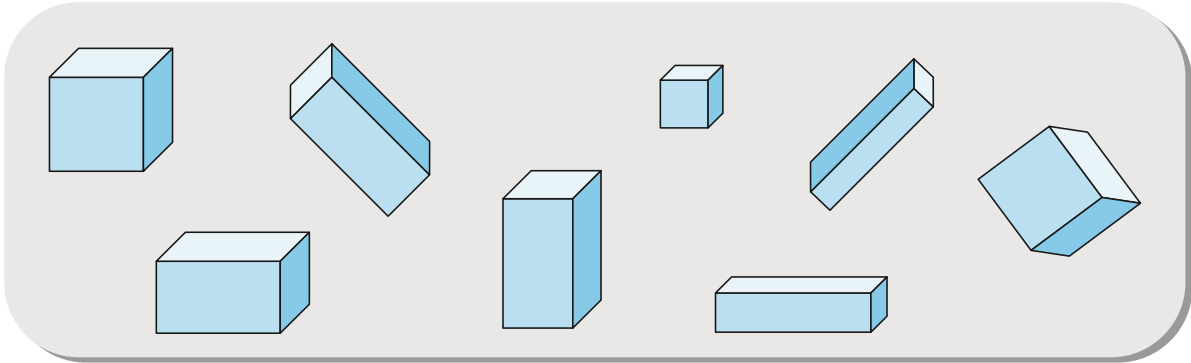
5-8 題



9-11 題

看圖回答問題。

1

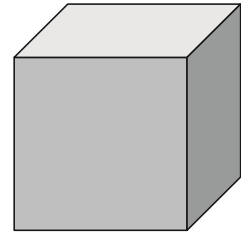


上圖中，有 _____ 個正方體和 _____ 個長方體。


2

右圖是一個正方體，

它的每一個面都是 _____ 形。



3



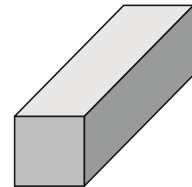
左圖是一個長方體，

它的每一個面都是 _____ 形。

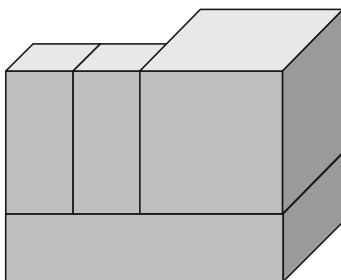
4

右圖是一個長方體，

它的面分別由 _____ 形和 _____ 形組成。



5



左圖分別由 _____ 個正方體

和 _____ 個長方體組成。