

姓名： _____

班別： _____ 日期： _____

我答對了：



0-3 題



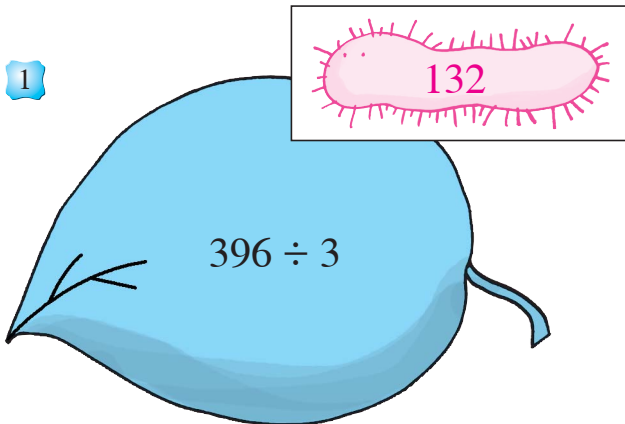
4-7 題



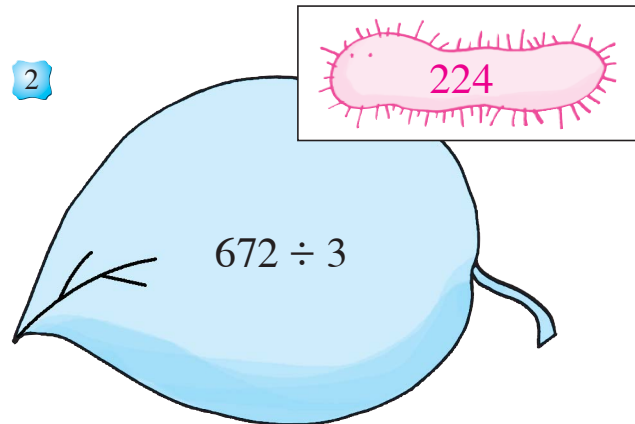
8-10 題

算一算，並從貼紙頁中取出適當的  貼在空格內。

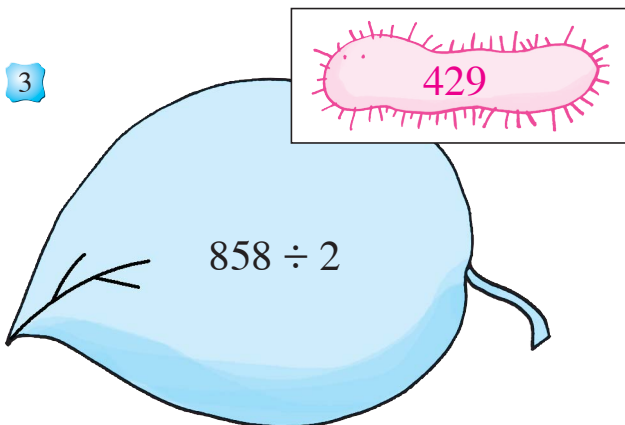
1



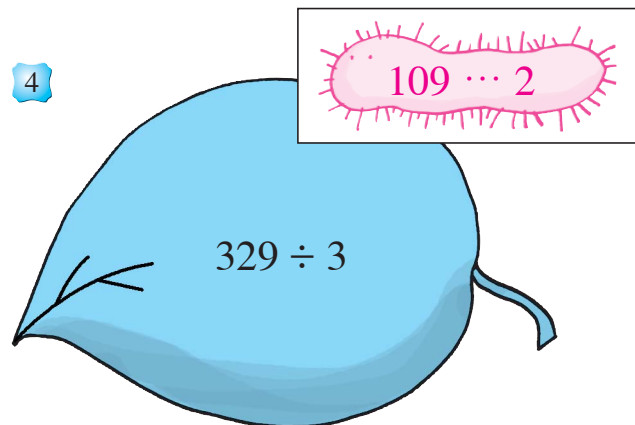
2



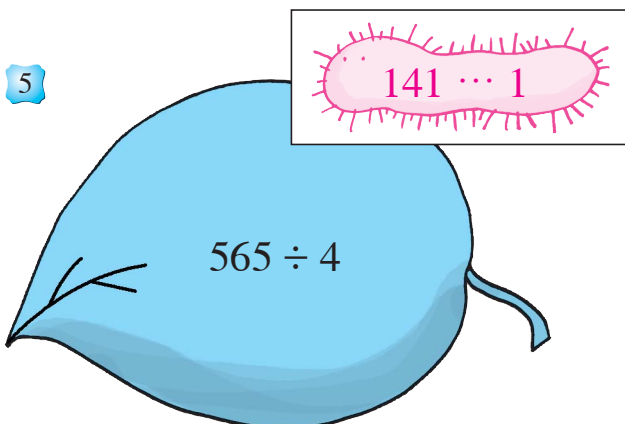
3



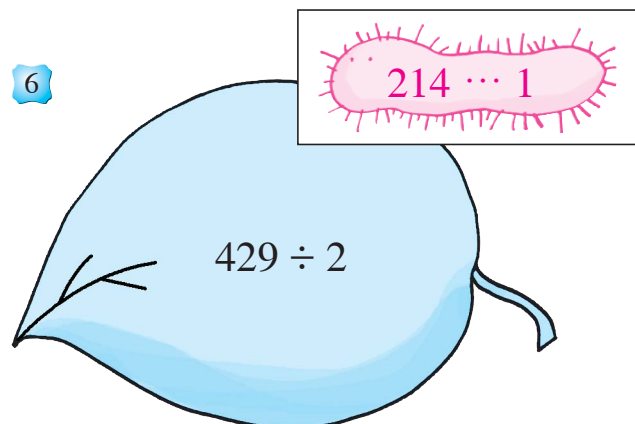
4



5



6



列式計算下列各題。

- 7 把 630 克的免治牛肉平均分成 3 份，每份有免治牛肉多少克？

每份有免治牛肉：

$$\boxed{630} \div \boxed{3} \\ = \boxed{210} \text{ (克)}$$

$$\begin{array}{r} 210 \\ 3 \overline{)630} \\ \underline{6} \\ 30 \\ \underline{30} \\ 0 \end{array}$$

- 8 有 464 張手工紙，平均分給 4 人，每人可得手工紙多少張？

每人可得手工紙：

$$\begin{array}{r} 464 \div 4 \\ \hline = 116 \text{ (張)} \end{array}$$

$$\begin{array}{r} 116 \\ 4 \overline{)464} \\ \underline{4} \\ 6 \\ \underline{4} \\ 24 \\ \underline{24} \\ 0 \end{array}$$

- 9 有 489 瓶果汁，裝成每 8 瓶一盒，共可裝成多少盒？餘下果汁多少瓶？

共可裝成：

$$\begin{array}{r} 489 \div 8 \\ \hline = 61 \text{ (盒)} \cdots 1 \text{ (瓶)} \end{array}$$

$$\begin{array}{r} 61 \\ 8 \overline{)489} \\ \underline{48} \\ 9 \\ \underline{8} \\ 1 \end{array}$$

- 10 這裏有 583 粒彩石，一個袋子可裝 5 粒，要把所有彩石裝入袋，最少需要袋子多少個？

需要袋子：

$$\begin{array}{r} 583 \div 5 \\ \hline = 116 \text{ (袋)} \cdots 3 \text{ (粒)} \text{ 或其他答題形式} \end{array}$$

即最少需要袋子 117 個。



$$\begin{array}{r} 116 \\ 5 \overline{)583} \\ \underline{5} \\ 8 \\ \underline{5} \\ 33 \\ \underline{30} \\ 3 \end{array}$$