

2

加法和減法複習

姓名： _____

班別： _____ 日期： _____

我答對了：



0-4 題



5-8 題



9-12 題

計算雞蛋上的算式。

1

$$\begin{array}{r} 68 \\ + 74 \\ \hline \square \end{array}$$

2

$$\begin{array}{r} 142 \\ + 95 \\ \hline \square \end{array}$$

3

$$\begin{array}{r} 328 \\ + 175 \\ \hline \square \end{array}$$

4

$$\begin{array}{r} 939 \\ - 702 \\ \hline \square \end{array}$$

5

$$\begin{array}{r} 947 \\ - 735 \\ \hline \square \end{array}$$

6

$$\begin{array}{r} 908 \\ - 853 \\ \hline \square \end{array}$$

7

$$\begin{array}{r} 354 \\ - 298 \\ \hline \square \end{array}$$

8

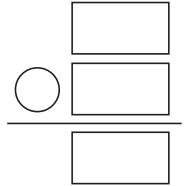
$$\begin{array}{r} 192 \\ 259 \\ + 39 \\ \hline \square \end{array}$$

列式計算下列各題。

- 9 運動會中，有 295 名男運動員和 248 名女運動員，共有運動員多少名？


共有運動員：

$$\begin{array}{r} \square \bigcirc \square \\ = \square \text{ (名)} \end{array}$$




- 10 車廠內有 286 個舊車輪，新車輪比舊車輪少 129 個，新車輪有多少個？

新車輪有：



- 11 攪拌機原價售 680 元，特價發售，減了 128 元，現售多少元？



- 12 野生動物園有 342 隻紅鶴，鸚鵡比紅鶴多 462 隻。野生動物園內有鸚鵡多少隻？

