

# 1

# 五位數

姓名：\_\_\_\_\_

班別：\_\_\_\_\_ 日期：\_\_\_\_\_

我答對了：



0-6 題

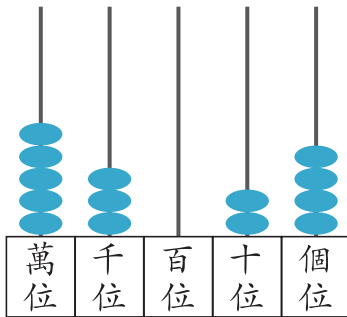


7-12 題



13-18 題

看算柱，填一填。



- 1 在 萬 位有 5 粒算珠，表示 50 000，
- 2 在 個 位有 4 粒算珠，表示 4，
- 3 在 百 位沒有算珠，表示 0，
- 4 在千位有 3 粒算珠，表示 3000，
- 5 在十位有 2 粒算珠，表示 20。

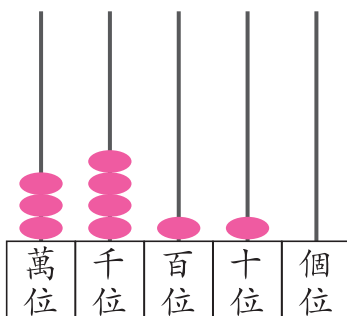
填填看。

- 6 12 300 讀作 一萬二千三百，  
 「1」在 萬 位，表示 10 000，  
 「2」在 千 位，表示 2000。

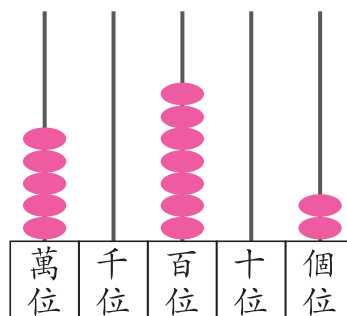
- 7 70 642 讀作 七萬零六百四十二，  
 「6」在百位，表示 600，  
 「0」在千位，表示 0。

繪畫適當的算珠來表示下列各數。

- 8 34 110



- 9 五萬零七百零二




填填看。

10 用阿拉伯數字寫出三萬三千八百：33 800

11 用阿拉伯數字寫出二萬五千零一：25 001


依指示排排看。

12



由小至大排列：85 649 < 88 451 < 88 513 < 99 874

13



由大至小排列：74 572 > 48 238 > 17 044 > 9349

依指示，把下列五個數組成適當的五位數。

14 最大的五位數：97 420

15 最小的五位數：20 479

16 最大的五位單數：94 207

17 最小的五位雙數：20 794

18 最接近 50 000 的數：49 720

