

# 14

## 2 的乘法

姓名： \_\_\_\_\_

班別： \_\_\_\_\_ 日期： \_\_\_\_\_

我答對了：



0-4 題




5-8 題



9-12 題

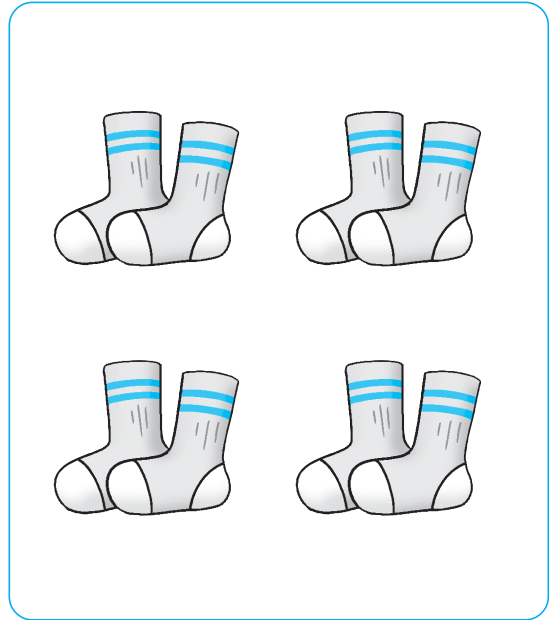
看圖填一填。

1




$$2 \times 6 = \boxed{12}$$

2




$$2 \times 4 = \boxed{8}$$

3



$$2 \times 8 = \boxed{16}$$

4



$$2 \times 3 = \boxed{6}$$

算算看。

5  $2 \times 1 = \boxed{2}$

6  $2 \times 7 = \boxed{14}$

7 
$$\begin{array}{r} 2 \\ \times 3 \\ \hline \end{array}$$
 $\boxed{6}$

8 
$$\begin{array}{r} 2 \\ \times 2 \\ \hline \end{array}$$
 $\boxed{4}$

9 
$$\begin{array}{r} 2 \\ \times 9 \\ \hline \end{array}$$
 $\boxed{18}$

列式計算下列各題。

- 10 一對皮鞋有 2 隻，5 對皮鞋共有多少隻？  
共有：

$2 \times \boxed{5}$   
 $= \boxed{10}$  (隻)



$$\begin{array}{r} 2 \\ \times \boxed{5} \\ \hline \end{array}$$
 $\boxed{10}$

- 11 一杯雪糕售 2 元，8 杯雪糕共售多少元？  
共售：

$\boxed{2} \times \boxed{8}$   
 $= \boxed{16}$  (元)



$$\begin{array}{r} \boxed{2} \\ \times \boxed{8} \\ \hline \end{array}$$
 $\boxed{16}$

- 12 一包雞肉腸有 2 條，小芳買 10 包共有多少條？

共有：

$2 \times 10$   
 $= 20$  (條)

$$\begin{array}{r} 2 \\ \times 10 \\ \hline \end{array}$$
 $20$