

2

數數活動

姓名：_____

班別：_____ 日期：_____

我答對了：



0-2 題




3-4 題



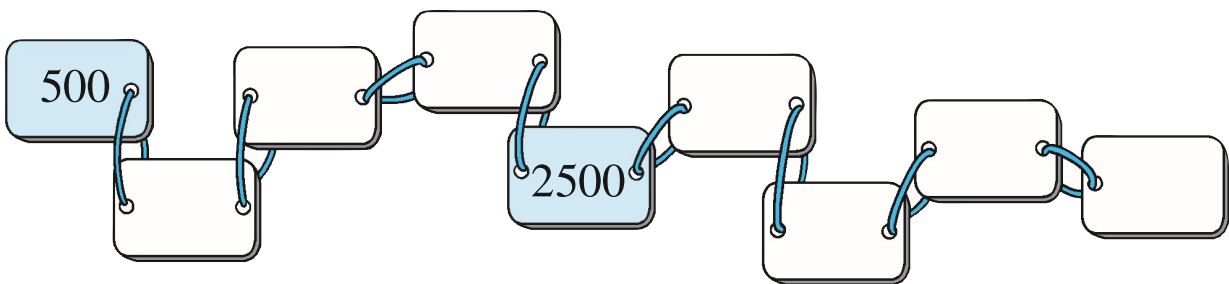
5-7 題

填填看。

1



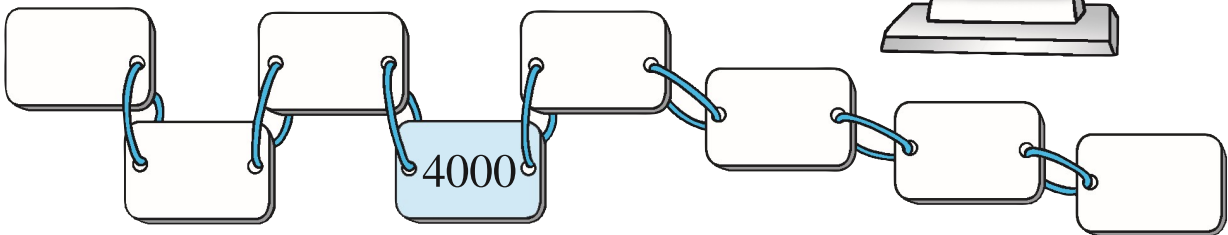
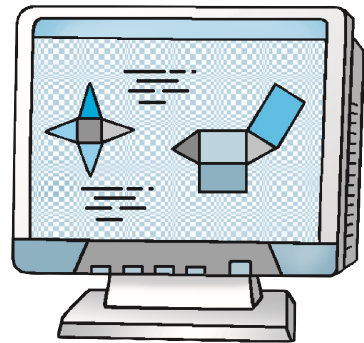
一個箱子最多可放 500 個硬幣，
9 個箱子最多可放硬幣多少個？



最多可放 _____ 個硬幣。

2

在一個遊戲裏，每完成
一個回合可得 1000 分。
佐美完成了 8 個回合，
共可得多少分？



共可得 _____ 分。

回答下列各題。

3

3 個 500 是 _____，6 個 500 是 _____。

4

2 個 1000 是 _____，即等於 _____ 個 500。