

姓名：_____

班別：_____ 日期：_____

我答對了：



0-2 題

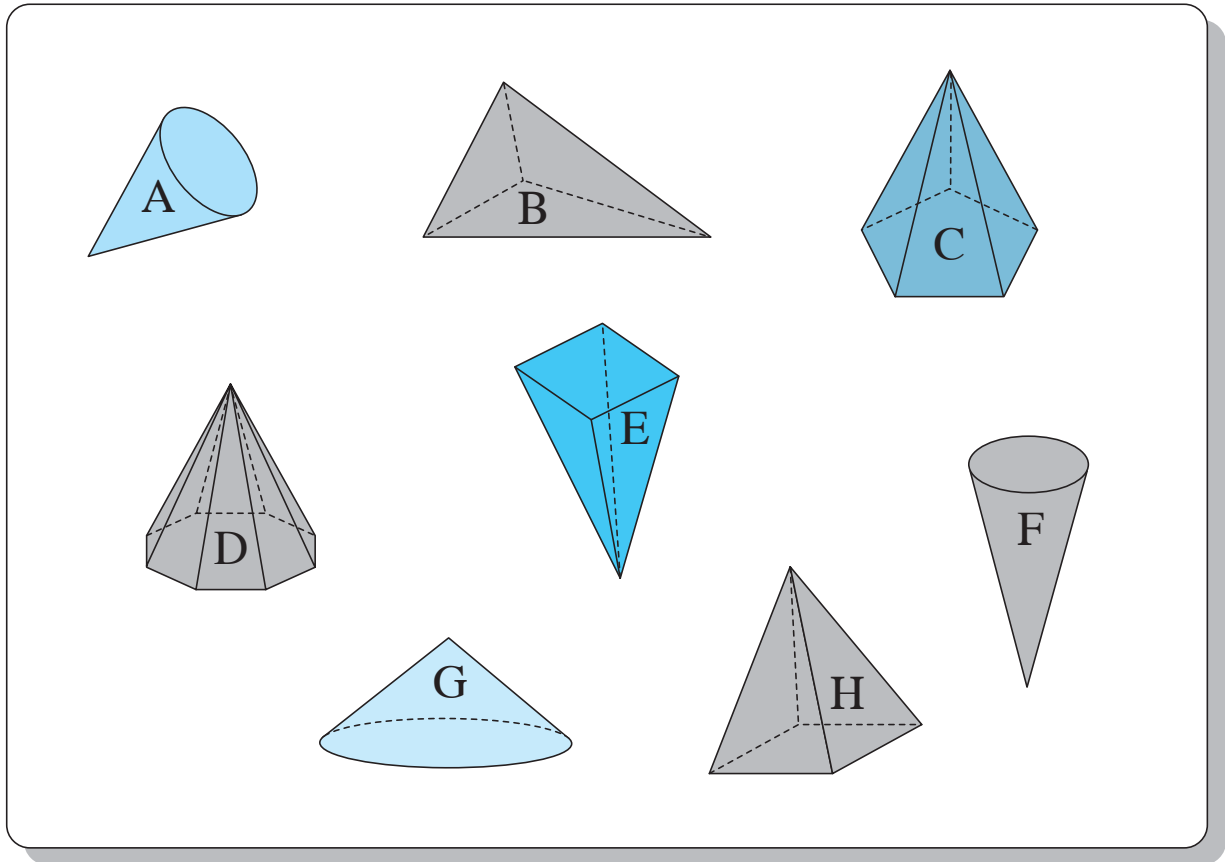


3-4 題



5-7 題

看圖回答問題。

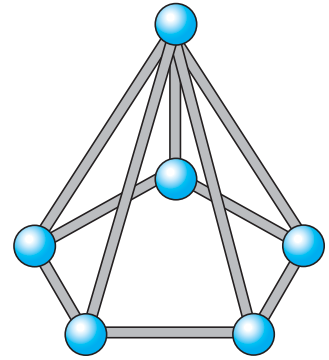
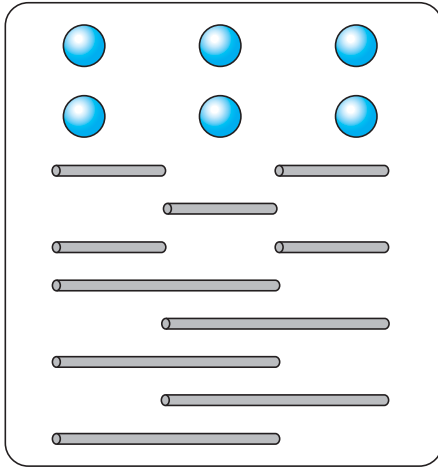


- 1 上圖共有 5 個角錐，
它們是：B, C, D, E, H (填寫代表立體的英文字母)
- 2 上圖共有 3 個圓錐，
它們是：A, F, G (填寫代表立體的英文字母)
- 3 角錐的側面都是 (長方形 / 三角形)。
- 4 立體 C 是一個五角錐體，底是 五邊 形，共有 6 個面。

做錐體

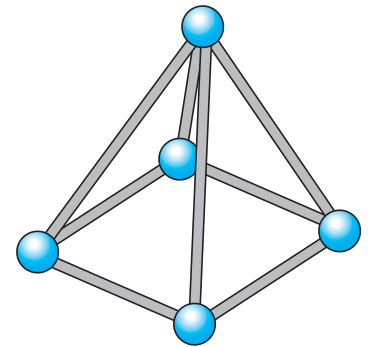
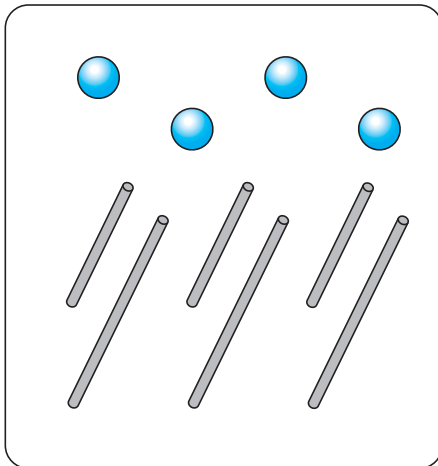
根據膠泥和竹枝的數目連連看，並寫出錐體的名稱。

5



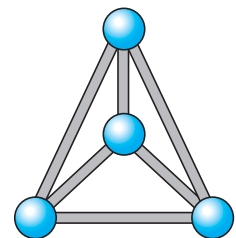
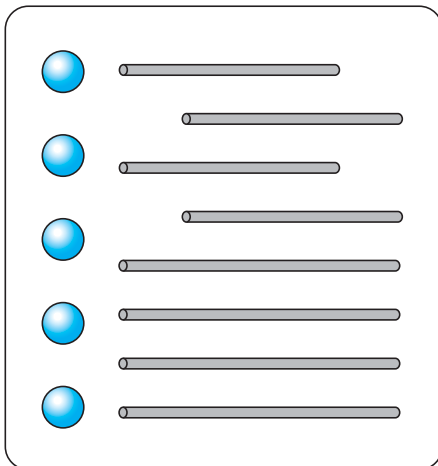
五 角錐體

6



四 角錐體

7



三 角錐體