



17 報時

姓名： _____

班別： _____ 日期： _____

我答對了： _____


0-5 題 6-10 題 11-15 題

圈一圈、填一填。

- 1 鐘面上的時針走一大格的時間是 1 (分鐘 / 小時) 。
- 2 鐘面上的分針走一小格的時間是 1 (分鐘 / 小時) 。
- 3 1 小時有 _____ 分鐘 。


填填看。

4



_____ 時 _____ 分

5



_____ 時 _____ 分

6




_____ 時 _____ 分

依時間加畫時針和分針，或在數字鐘上填寫時間。


7

10 時 10 分




8

7 時 36 分



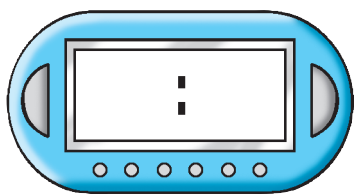
9

3 時 48 分



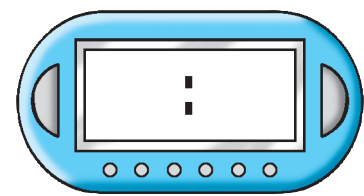
10

1 時 35 分



11


6 時 6 分



填寫活動所需的時間，或在數字鐘上填寫時間。

12



3:32



:

放學乘巴士回家用了 27 分鐘


13



做家課及溫習用了 _____ 小時

14

7:08




7:50

吃晚飯用了 _____ 分鐘

15

8:00



:

看電視用了 1 小時 10 分鐘