

姓名：_____

班別：_____ 日期：_____

我答對了：



0-4 題



5-8 題



9-12 題

算算看。

1

$$\begin{array}{r} 4 \\ \times 1 \\ \hline \end{array}$$

4

2

$$\begin{array}{r} 8 \\ \times 2 \\ \hline \end{array}$$

16

3

$$\begin{array}{r} 4 \\ \times 10 \\ \hline \end{array}$$

40

4

$8 \times 6 =$

48


5

$4 \times 7 =$


28

圈出正確答案。


6



7



8



列式計算下列各題。

- 9 一個蛋糕可分 8 件，3 個蛋糕共可分多少件？

共可分：

$$8 \times \boxed{3}$$
$$= \boxed{24} \text{ (件)}$$

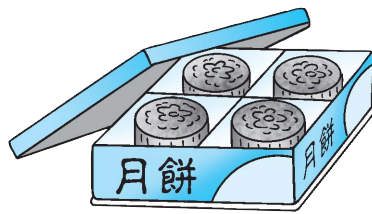


$$\begin{array}{r} 8 \\ \times \boxed{3} \\ \hline \boxed{24} \end{array}$$

- 10 一盒月餅有 4 個，爸爸買了 4 盒，共有月餅多少個？

共有月餅：

$$\boxed{4} \times \boxed{4}$$
$$= \boxed{16} \text{ (個)}$$



$$\begin{array}{r} \boxed{4} \\ \times \boxed{4} \\ \hline \boxed{16} \end{array}$$

- 11 一輛計程車可載 4 位乘客，6 輛計程車可載乘客多少位？

可載乘客：

$$4 \times 6$$
$$= 24 \text{ (位)}$$

$$\begin{array}{r} 4 \\ \times 6 \\ \hline 24 \end{array}$$

- 12 一包白米重 8 公斤，10 包共重多少公斤？

共重：

$$8 \times 10$$
$$= 80 \text{ (公斤)}$$

$$\begin{array}{r} 8 \\ \times 10 \\ \hline 80 \end{array}$$