

姓名：_____

班別：_____ 日期：_____

我答對了：



0-4 題



5-8 題



9-12 題

算算看。

1

$$\begin{array}{r} 4 \\ \times 1 \\ \hline \square \end{array}$$

2

$$\begin{array}{r} 8 \\ \times 2 \\ \hline \square \end{array}$$

3

$$\begin{array}{r} 4 \\ \times 10 \\ \hline \square \end{array}$$

4


$$8 \times 6 = \square$$

5


$$4 \times 7 = \square$$

圈出正確答案。


6



7



8



列式計算下列各題。

- 9 一個蛋糕可分 8 件，3 個蛋糕共可分多少件？

共可分：

$$8 \times \square \\ = \square \text{ (件)}$$

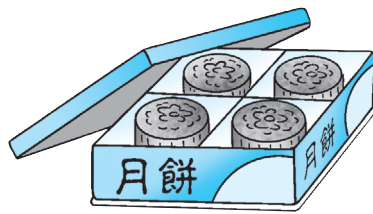


$$\begin{array}{r} 8 \\ \times \square \\ \hline \square \end{array}$$

- 10 一盒月餅有 4 個，爸爸買了 4 盒，共有月餅多少個？


共有月餅：

$$\square \bigcirc \square \\ = \square \text{ (個)}$$



$$\begin{array}{r} \square \\ \bigcirc \square \\ \hline \square \end{array}$$

- 11 一輛計程車可載 4 位乘客，6 輛計程車可載乘客多少位？



- 12 一包白米重 8 公斤，10 包共重多少公斤？

