

3

本港的貨幣

姓名： _____

班別： _____ 日期： _____

我答對了：



0-4 題




5-8 題



9-11 題

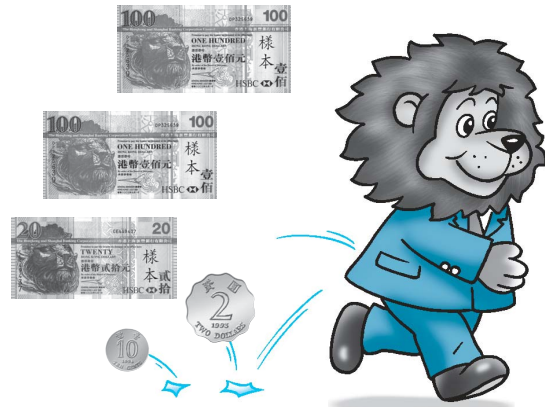
填填看。

1





老虎先生共失掉了
555 元 5 角。

2





獅子先生共失掉了
222 元 1 角。



3

10 個  可換成 1 張 。

4

20 個  可換成 1 張 。

5

兩張  可換成 10 張 。

6

香港現時共有 6 種不同幣值的紙幣。

7

香港現時共有 7 種不同幣值的硬幣。

8

香港現時共有 12 種不同幣值的貨幣。

9

現時哪一種幣值的貨幣，同時有紙幣和硬幣？ 10 元

