

3

本港的貨幣

姓名：_____

班別：_____ 日期：_____

我答對了：



0-4 題



5-8 題




9-11 題

填填看。

1



2



老虎先生共失掉了
_____ 元 _____ 角。

獅子先生共失掉了
_____ 元 _____ 角。



3

10 個  可換成 _____ 張 。

4

20 個  可換成 _____ 張 。

5

兩張  可換成 _____ 張 。

6

香港現時共有 _____ 種不同幣值的紙幣。

7

香港現時共有 _____ 種不同幣值的硬幣。

8

香港現時共有 _____ 種不同幣值的貨幣。

9

現時哪一種幣值的貨幣，同時有紙幣和硬幣？_____

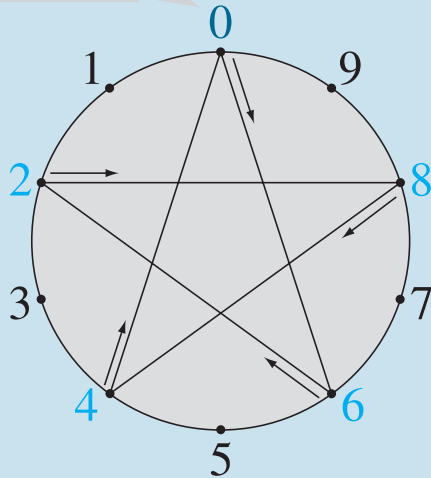
來玩玩連線遊戲，找出總值。

把一些數的乘法結果中的 **個位** 數字 (乘數由 1 至 10)，在圓形中 **依次序** 用直線連起來後，找出直線到達各數目的點所代表的貨幣，並寫出這些貨幣的總值。

例如：6 的乘法

- $6 \times 1 = 6$
- $6 \times 2 = 12$
- $6 \times 3 = 18$
- $6 \times 4 = 24$
- $6 \times 5 = 30$
- $6 \times 6 = 36$
- $6 \times 7 = 42$
- $6 \times 8 = 48$
- $6 \times 9 = 54$
- $6 \times 10 = 60$

由 0 開始

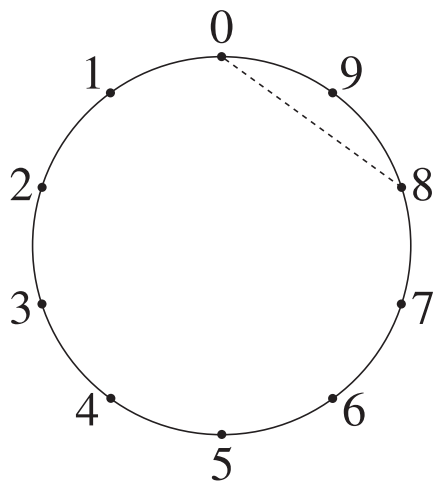


總值是：126 元 2 角

1	2	
3	4	
5	6	7
8	9	0

10

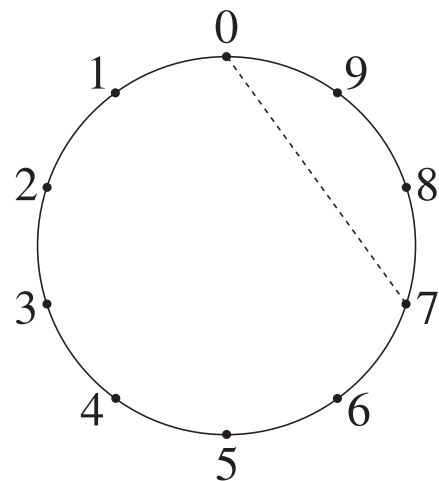
8 的乘法



總值是：_____ 元 _____ 角

11

7 的乘法



總值是：_____ 元 _____ 角