

2

21—50 的認識

姓名：_____

班別：_____ 日期：_____

我答對了：



0-4 題



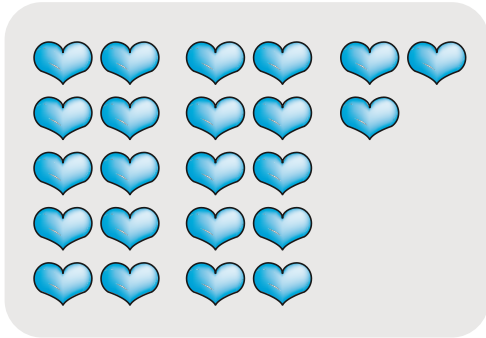
5-8 題



9-12 題

數一數、填一填。

1

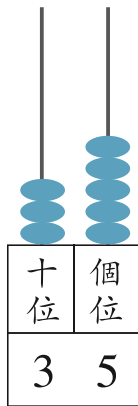


2



看算柱填填看。

3



35 讀作三十五。

十位的數字是 3，

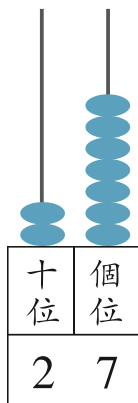
即 _____ 個 10，表示 _____，

個位的數字是 5，

即 _____ 個 1，表示 _____。

$$35 = 30 + \square$$

4



27 讀作 _____。

十位的數字是 _____，

即 _____ 個 10，表示 _____，

個位的數字是 _____，

即 _____ 個 1，表示 _____。

$$27 = \square + 7$$