

姓名：_____

班別：_____ 日期：_____

我答對了：



0-3 題




4-7 題



8-10 題

填一填、圈一圈。


1



薯條

共有 8 包 ,
這是 (單數 / 雙數) 。

2



軟雪糕

共有 11 杯 ,
這是 (單數 / 雙數) 。

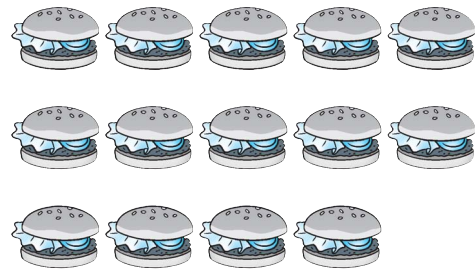
3



汽水

共有 12 杯 ,
這是 (單數 / 雙數) 。

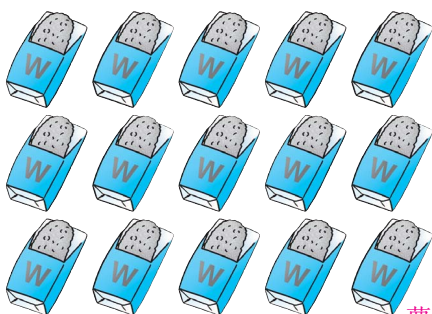
4



漢堡包

共有 14 個 ,
這是 (單數 / 雙數) 。


5




薯餅

共有 15 塊 ,
這是 (單數 / 雙數) 。

6




鮮奶

共有 17 盒 ,
這是 (單數 / 雙數) 。

依指示填色。

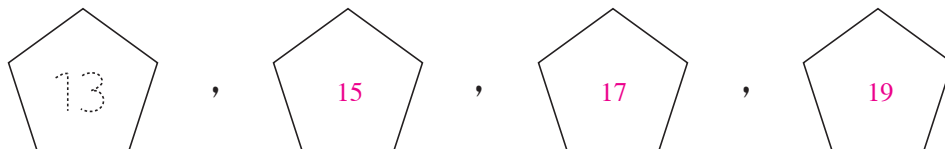
7 把編號是單數的圖形填上黃色。○表示填上黃色

8 把編號是雙數的圖形填上綠色。✓表示填上綠色



依指示在 ◡ 內填寫適當的數。

9 12 至 20 以內的單數



10 7 至 15 以內的雙數

