



# 11

# 立體圖形

姓名： \_\_\_\_\_

班別： \_\_\_\_\_ 日期： \_\_\_\_\_

我答對了：



0-4 題



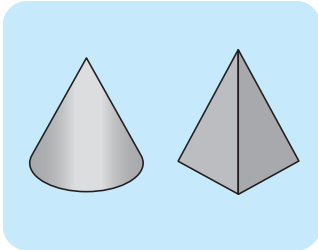
5-9 題



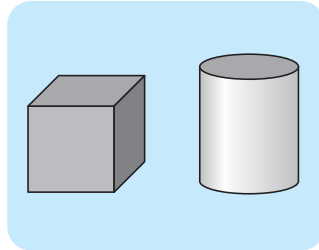
10-13 題

連連看。


1



2



3




柱體

球體

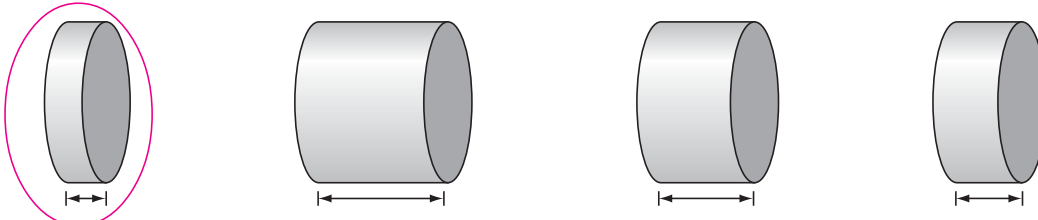
錐體

依指示圈出適當的答案。

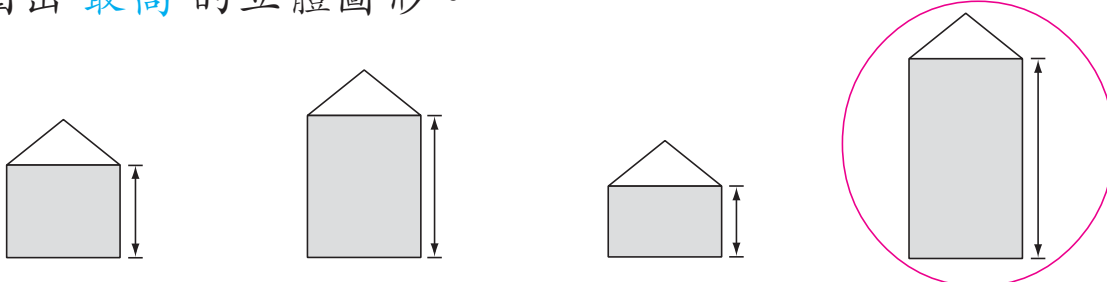
4 圈出最大的立體圖形。



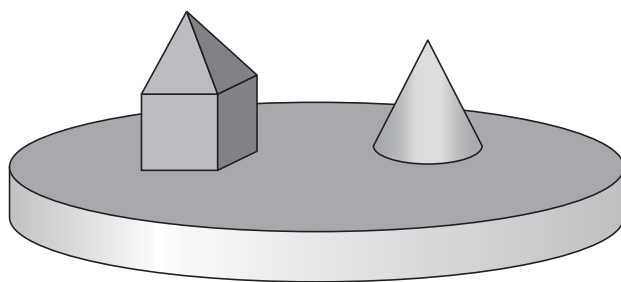
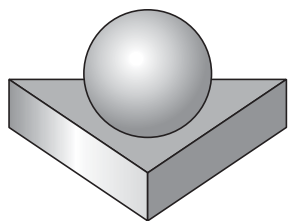
5 圈出最薄的立體圖形。



6 圈出最高的立體圖形。



填一填、圈一圈。






7 數一數，填寫上圖中各種立體圖形的數量。

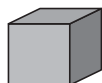

柱體	錐體	球體
3 個	2 個	1 個

以你看圖的方向，圈出適當的答案。

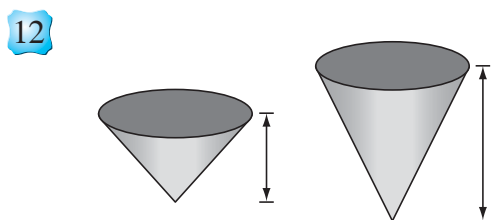
8  在  的 ( 上 /  下 ) 面。

9  在  的 (  上 / 下 ) 面。

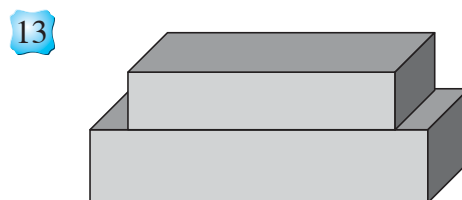
10  在  的 ( 左 /  右 ) 面。

11  在  的 (  左 / 右 ) 面。

圈出適當的答案。



( 左 /  右 ) 面的立體較高。



(  上 / 下 ) 面的立體較小。