

姓名：_____

班別：_____ 日期：_____

我答對了：



0-3 題




4-7 題






8-10 題

看圖算一算。




1

共有  : $6 + 5 = \square$


2


共有  : $8 + 6 = \square$

3

共有  : $9 + 7 = \square$

4



共有  : $4 + 8 = \square$

在適當的圈內加「✓」。

5 $9 + 8 = ?$

 16 17 18 19

6 $8 + 5 = ?$

 13 14 15 167 下列哪個加法的結果 **不是** 12 ? $6 + 6$ $5 + 7$ $3 + 9$ $8 + 8$

連連看。

8 $9 + 9$ •

• 13

9 $7 + 8$ •

• 15

10 $6 + 5$ •

• 11

• 18