

姓名：_____

班別：_____ 日期：_____

我答對了：



0-6 題



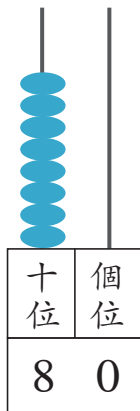
7-13 題



14-19 題

看算柱填填看。

1



80 讀作八十。

十位的數字是 8，

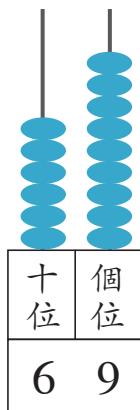
即 8 個 10，表示 80，

個位的數字是 0，

即 0 個 1，表示 0。

$$80 = 80 + \boxed{0}$$

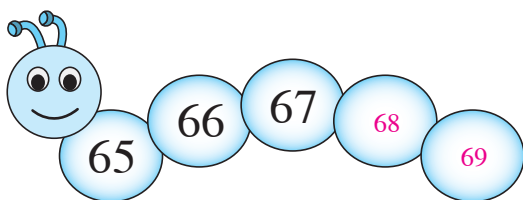
2

69 讀作 六十九。十位的數字是 6，即 6 個 10，表示 60，個位的數字是 9，即 9 個 1，表示 9。

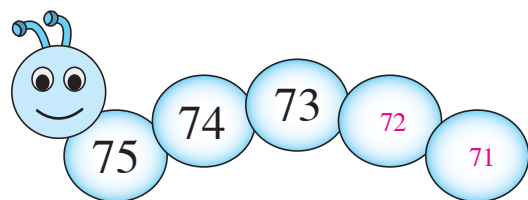
$$69 = \boxed{60} + 9$$

依規律填填看。

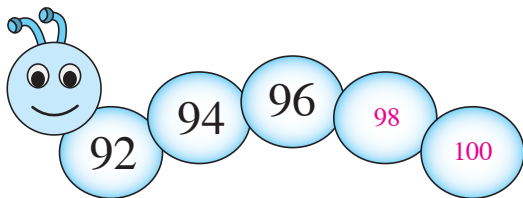
3



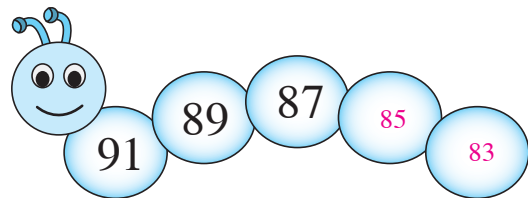
4



5



6



填寫「>」或「<」。

7 92 < 96

8 74 > 54

9 51 < 85

10 76 > 63

11 78 < 87

12 100 > 9

圈出答案。

13 下列哪些是 51 至 60 的數？



14 下列哪些是 72 至 85 的數？



15 下列哪些是單數？



16 下列哪些是雙數？



想一想、填一填。

依順數排列：

17 75 之前的一個數是 74。

18 99 之後的一個數是 100。

19 82 之前的一個 **雙數** 是 80。