

姓名：_____

班別：_____ 日期：_____

我答對了：



0-6 題



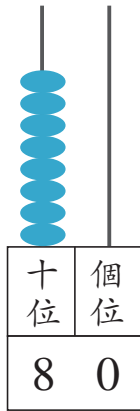
7-13 題



14-19 題

看算柱填填看。

1



80 讀作八十。

十位的數字是 8，

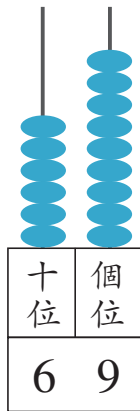
即 _____ 個 10，表示 _____，

個位的數字是 0，

即 _____ 個 1，表示 _____。

$$80 = 80 + \square$$

2



69 讀作 _____。

十位的數字是 _____，

即 _____ 個 10，表示 _____，

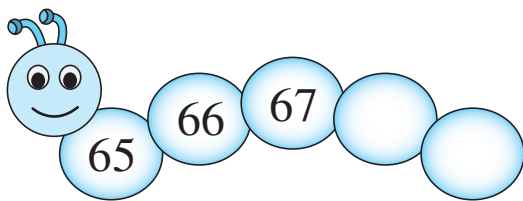
個位的數字是 _____，

即 _____ 個 1，表示 _____。

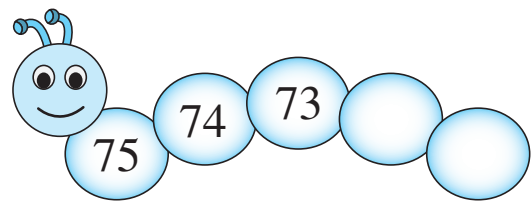
$$69 = \square + 9$$

依規律填填看。

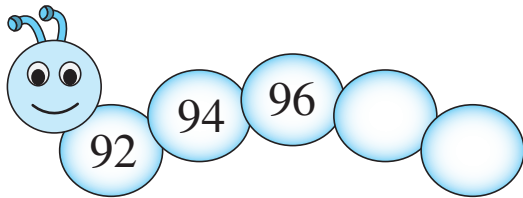
3



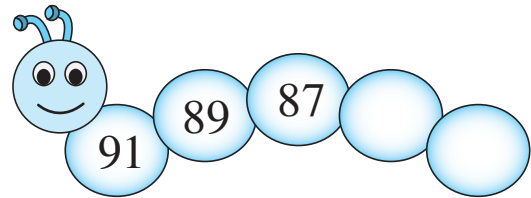
4



5



6



填寫「>」或「<」。

7 92 _____ 96

8 74 _____ 54

9 51 _____ 85

10 76 _____ 63

11 78 _____ 87

12 100 _____ 9

圈出答案。

13 下列哪些是 51 至 60 的數？



14 下列哪些是 72 至 85 的數？



15 下列哪些是單數？



16 下列哪些是雙數？



想一想、填一填。

依順數排列：

17 75 之前的一個數是 _____。

18 99 之後的一個數是 _____。

19 82 之前的一個 **雙數** 是 _____。