

13

百分數和分數互化

姓名：_____

班別：_____ 日期：_____

我答對了：

 0-7 題
  8-14 題
  15-21 題

把下列各百分數化為最簡分數。

1 $14\% =$ _____

2 $78\% =$ _____

3 $125\% =$ _____

4 $250\% =$ _____

5 $400\% =$ _____

6 $6\frac{1}{2}\% =$ _____

把下列各分數化為百分數。

7 $\frac{1}{10} =$ _____ %

8 $\frac{5}{6} =$ _____ %

9 $\frac{7}{12} =$ _____ %




10 $1\frac{3}{5} =$ _____ %

11 $2\frac{2}{7} =$ _____ %

12 $3\frac{1}{3} =$ _____ %

把印有相同數值的花連起來。

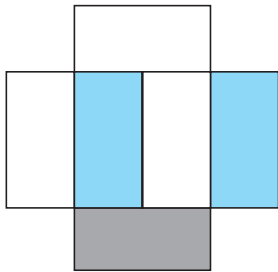
13



填填看。

- 14 在六甲班中，戴眼鏡的人數佔全班的 75%，即有 $\frac{\square}{\square}$ 的學生是戴眼鏡的。

看圖回答問題。



15 左圖着色部分佔全圖的 $\frac{\square}{\square}$ ，即 _____ %。

16 沒有着色部分佔全圖的 $\frac{\square}{\square}$ ，即 _____ %。

學校的圖書館內收藏了以下三種不同類型的書。



佔全部書的 $\frac{9}{25}$



佔全部書的 $\frac{1}{2}$



佔全部書的 $\frac{7}{50}$

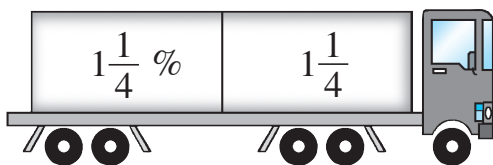
17 英文書佔全部書的 _____ %。

18 中文書佔全部書的 _____ %。

19 圖畫書佔全部書的 _____ %。

把貨櫃上的百分數化為最簡分數或把分數化為百分數。

20



21

