


1 百分率的應用(一)

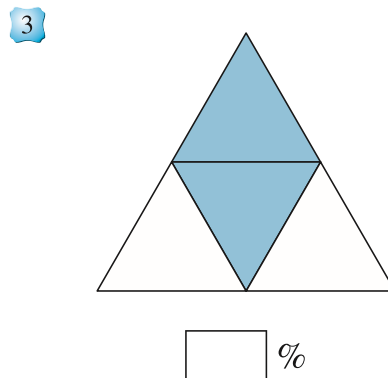
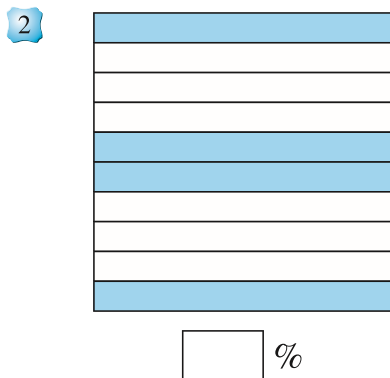
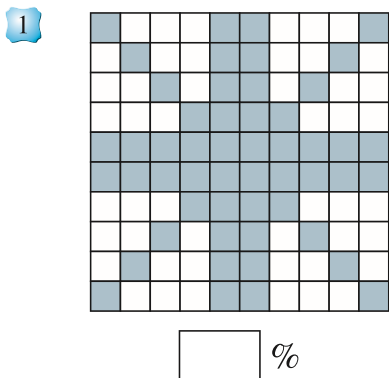
姓名：_____

班別：_____ 日期：_____

我答對了：

 0-5 題  6-10 題  11-15 題

觀察下列各圖，填寫各着色部分佔全圖的百分率。



填填看。

4 $\frac{37}{100} = \text{□} \%$

5 $\frac{26}{26} = \text{□} \%$

6 $\frac{23}{50} = \text{□} \%$

收集寒衣

4 位小朋友共捐出 50 件寒衣。

7 我捐出 12 件寒衣，
佔全部的 %。

8 我捐出 8 件寒衣，
佔全部的 %。



9 我捐出的寒衣佔全部的
28%，即捐出了 件。

10 我捐出的寒衣佔全部的
32%，即捐出了 件。

11 4 位小朋友捐出的衣物共佔全部的 _____ %。