

姓名：_____

班別：_____ 日期：_____

我答對了：



0-4 題



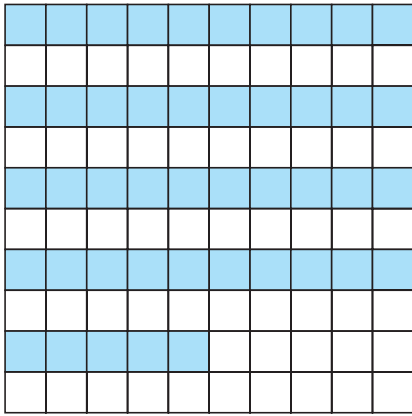
5-9 題



10-13 題

填填看。

1




着色部分佔全圖的 $\frac{\square}{100}$

着色部分佔全圖的百分之_____。

着色部分佔全圖的 _____ %。

2



着色部分佔全圖的 $\frac{\square}{100}$

着色部分佔全圖的百分之_____。

着色部分佔全圖的 _____ %。

3

$$\frac{\square}{100} = 22\%$$



讀作 _____

4

$$\frac{5}{100} = \square\%$$



讀作 _____

5

$$\frac{\square}{100} = 109\%$$



讀作 _____


圈出適當的答案。

6

在六甲班中，男生佔全班的 60%，女生佔全班的 40%。這班人數較多的是（男生 / 女生）。

攝影比賽

今屆的攝影比賽共有 100 人參加，參加人數比上屆增加了百分之三十。參賽者中有百分之二十來自海外，另外有 10 人是本地學生。



想一想、填一填。

- 7 今屆攝影比賽的參加人數比上屆增加 _____ %。
- 8 來自海外的參賽者佔全部的 _____ %。
- 9 來自海外的參賽者有 _____ 人。
- 10 是本地學生的參賽者佔全部的 _____ %。
- 11 除了來自海外和是本地學生的參賽者外，其餘的參賽者都是業餘攝影會會員，即共有 _____ 人是會員。

今屆攝影比賽共有 100 張作品進入決賽，當中不同種類的攝影作品數量如下：

作品種類	風景	人物	寫實	其他
數量(張)	25	34	31	10

- 12 進入決賽的作品中，有關風景的作品佔全部的 _____ %。
- 13 有關人物和寫實的作品共佔全部的 _____ %。