




## 2 小數除法(二)

姓名：\_\_\_\_\_

班別：\_\_\_\_\_ 日期：\_\_\_\_\_

我答對了：

 0-5 題  6-10 題  11-15 題

計算下列各題，依指示填寫答案。

答案取一位小數。

1  $7.8 \div 14 =$

2  $16.4 \div 0.7 =$

3  $2.03 \div 4.5 =$

4  $71.2 \div 0.54 =$



答案取二位小數。

5  $28.2 \div 22 =$

6  $3.82 \div 1.5 =$

7  $0.32 \div 0.9 =$

8  $10 \div 1.06 =$



在適當的圈內加「✓」。

9  $(55.5 \div 0.6)$  的餘數是多少？

0.03

0.3

0.5

3

10 以下哪一題算式的答案與  $(3.7 \div 0.41)$  的相同？

$0.37 \div 4.1$

$3.7 \div 4.1$

$37 \div 41$

$370 \div 41$

11 以下哪一題除式的答案最大？

$0.36 \div 0.7$

$0.36 \div 7$

$0.36 \div 0.07$

$3.6 \div 7$

列式計算下列各題。

- 12 平行四邊形的面積是 31.2 平方厘米，高是 7.1 厘米，它的底約長多少厘米？(答案取一位小數)

它的底約長：

$$\begin{aligned} & \frac{31.2 \div 7.1}{=} \frac{312 \div 71}{=} \underline{4.4} \text{ (厘米)} \end{aligned}$$

$$\begin{array}{r} 4.39 \\ 71 \overline{) 312.00} \\ \underline{284} \phantom{00} \\ 280 \phantom{00} \\ \underline{213} \phantom{00} \\ 670 \phantom{00} \\ \underline{639} \phantom{00} \\ 31 \phantom{00} \end{array}$$

- 13 一件貨物重 11.5 公斤，由 8 人合力把它抬起來，平均每人要負擔多少公斤？(答案取二位小數)

平均每人要負擔：

$$\begin{aligned} & \frac{11.5 \div 8}{=} \underline{1.44} \text{ (公斤)} \end{aligned}$$

$$\begin{array}{r} 1.4375 \\ 8 \overline{) 11.5000} \\ \underline{8} \phantom{0000} \\ 35 \phantom{0000} \\ \underline{32} \phantom{0000} \\ 30 \phantom{0000} \\ \underline{24} \phantom{0000} \\ 60 \phantom{0000} \\ \underline{56} \phantom{0000} \\ 4 \phantom{0000} \end{array}$$

- 14 把 1.8 升醬油倒進一些容量是 0.35 升的小瓶裏，最多可倒滿小瓶多少個？還餘醬油多少升？

最多可倒滿小瓶：

$$\begin{aligned} & \frac{1.8 \div 0.35}{=} \frac{180 \div 35}{=} \underline{5 \text{ (個)} \cdots 0.05 \text{ (升)}} \end{aligned}$$

$$\begin{array}{r} 5 \\ 35 \overline{) 180} \\ \underline{175} \\ 5 \end{array}$$

- 15 每隻豉油雞翼售 6.5 元，周小姐有 25.6 元，她最多可買豉油雞翼多少隻？還餘多少元？

最多可買豉油雞翼：

$$\begin{aligned} & \frac{25.6 \div 6.5}{=} \frac{256 \div 65}{=} \underline{3 \text{ (隻)} \cdots 6.1 \text{ (元)}} \end{aligned}$$

$$\begin{array}{r} 3 \\ 65 \overline{) 256} \\ \underline{195} \\ 61 \end{array}$$