

## 2

## 小數除法(二)

姓名：\_\_\_\_\_

班別：\_\_\_\_\_ 日期：\_\_\_\_\_

我答對了：



0-5 題



6-10 題



11-15 題

計算下列各題，依指示填寫答案。

答案取一位小數。

1  $7.8 \div 14 = \square$

2  $16.4 \div 0.7 = \square$

3  $2.03 \div 4.5 = \square$

4  $71.2 \div 0.54 = \square$



答案取二位小數。

5  $28.2 \div 22 = \square$

6  $3.82 \div 1.5 = \square$

7  $0.32 \div 0.9 = \square$

8  $10 \div 1.06 = \square$



在適當的圈內加「✓」。

9  $(55.5 \div 0.6)$  的餘數是多少？ 0.03 0.3 0.5 310 以下哪一題算式的答案與  $(3.7 \div 0.41)$  的相同？  $0.37 \div 4.1$   $3.7 \div 4.1$   $37 \div 41$   $370 \div 41$ 

11 以下哪一題除式的答案最大？


  $0.36 \div 0.7$   $0.36 \div 7$   $0.36 \div 0.07$   $3.6 \div 7$

列式計算下列各題。

- 12 平行四邊形的面積是 31.2 平方厘米，高是 7.1 厘米，它的底約長多少厘米？(答案取一位小數)

它的底約長：


$$\begin{aligned} & \underline{\hspace{2cm}} \\ & = \underline{\hspace{2cm}} \\ & = \underline{\hspace{2cm}} \text{ (厘米)} \end{aligned}$$



- 13 一件貨物重 11.5 公斤，由 8 人合力把它抬起來，平均每人要負擔多少公斤？(答案取二位小數)


平均每人要負擔：

$$\begin{aligned} & \underline{\hspace{2cm}} \\ & \underline{\hspace{2cm}} \end{aligned}$$



- 14 把 1.8 升醬油倒進一些容量是 0.35 升的小瓶裏，最多可倒滿小瓶多少個？還餘醬油多少升？

$$\begin{aligned} & \underline{\hspace{2cm}} \\ & \underline{\hspace{2cm}} \\ & \underline{\hspace{2cm}} \\ & \underline{\hspace{2cm}} \end{aligned}$$



- 15 每隻豉油雞翼售 6.5 元，周小姐有 25.6 元，她最多可買豉油雞翼多少隻？還餘多少元？

$$\begin{aligned} & \underline{\hspace{2cm}} \\ & \underline{\hspace{2cm}} \\ & \underline{\hspace{2cm}} \\ & \underline{\hspace{2cm}} \end{aligned}$$

