

# 8

# 三角形的面積

姓名： \_\_\_\_\_

班別： \_\_\_\_\_ 日期： \_\_\_\_\_

我答對了：



0-3 題

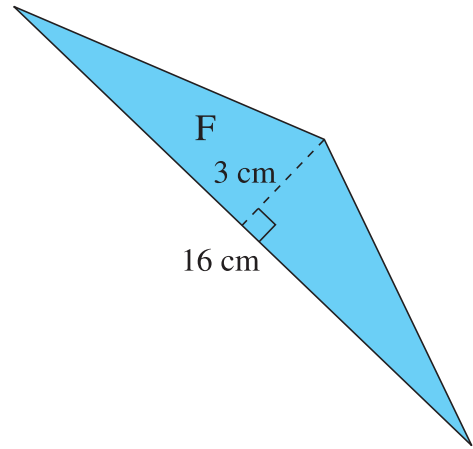
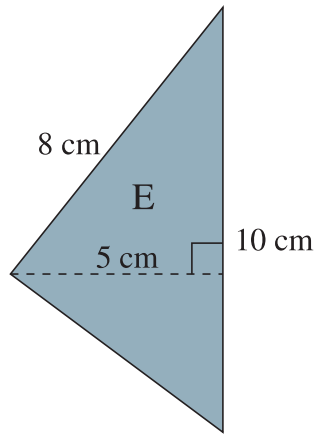
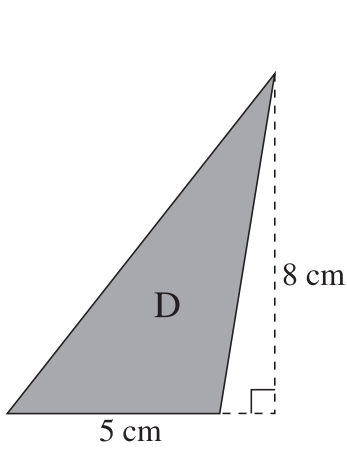
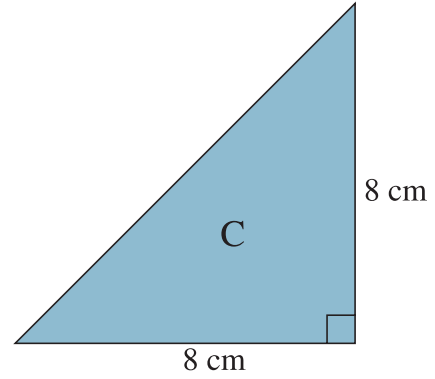
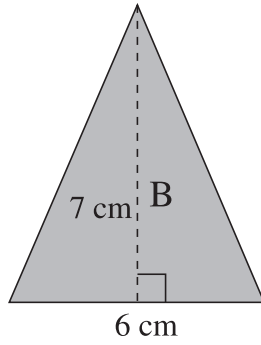
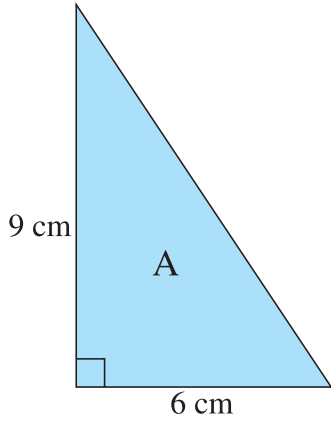


4-6 題



7-9 題

看圖填一填。




- 1
- 2
- 3
- 4
- 5
- 6

三角形	底 (cm)	高 (cm)	面積 (cm <sup>2</sup> )
A			
B			
C			
D			
E			
F			

畫一畫、算一算。

- 7 試在下面的方格紙上畫出三個底長 4 厘米，高 2 厘米，但形狀不同的三角形。



以上每一個三角形的面積都是： \_\_\_\_\_

= \_\_\_\_\_ (平方厘米)

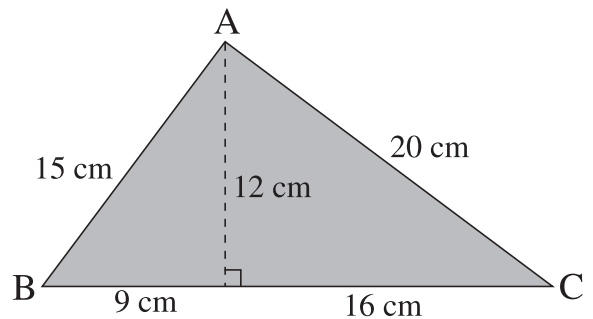
列式計算下列各題。

- 8 計算右面三角形 ABC 的面積。

它的面積是： \_\_\_\_\_

\_\_\_\_\_

\_\_\_\_\_



- 9 右圖是一個直角三角形，它的周界是 24 厘米。它的面積是多少平方厘米？

它的底長： \_\_\_\_\_

= \_\_\_\_\_ (厘米)

它的面積是： \_\_\_\_\_

= \_\_\_\_\_ (平方厘米)

