



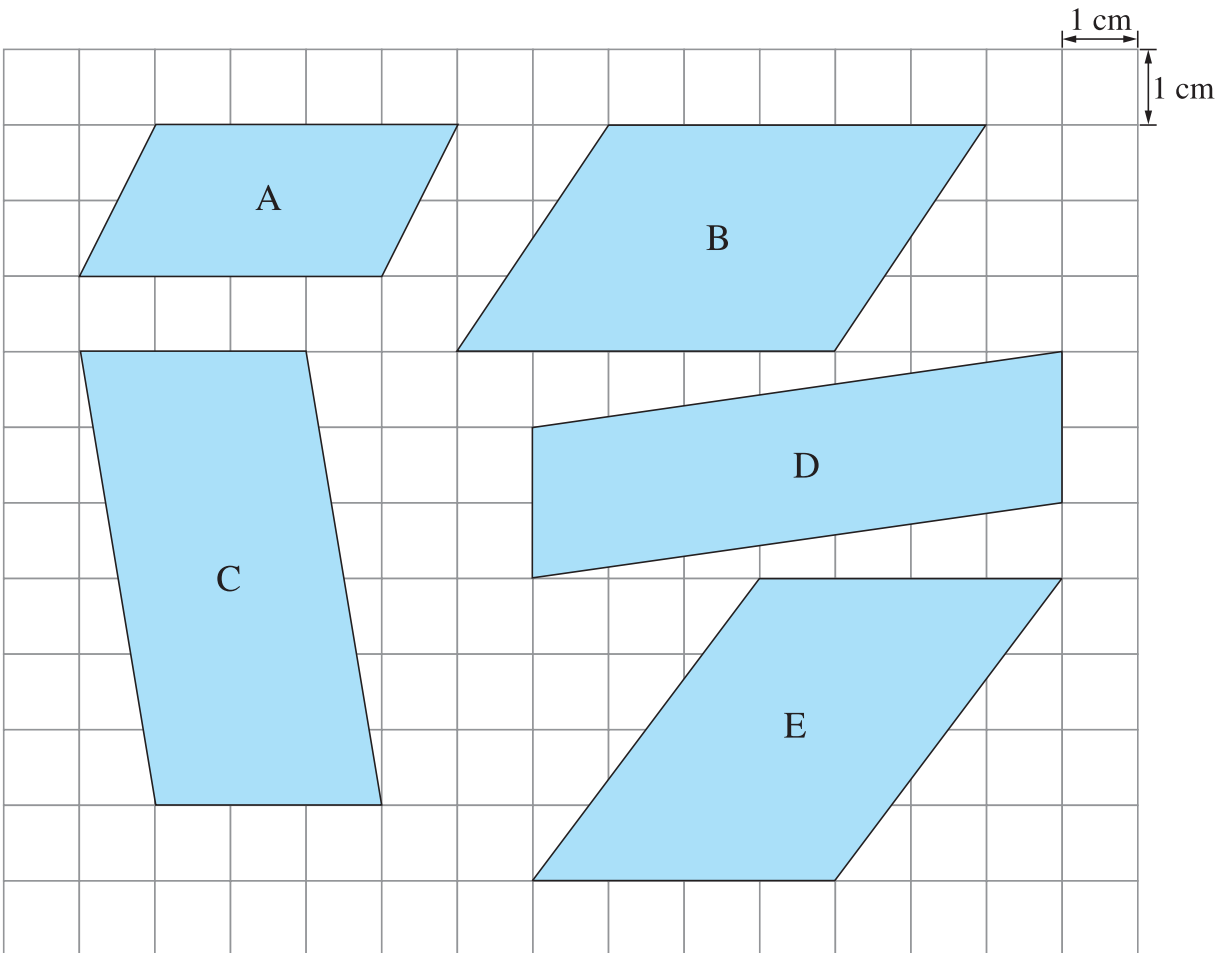
7 平行四邊形的面積

姓名： _____

班別： _____ 日期： _____

我答對了： 0-3 題 4-6 題 7-8 題

看圖填一填。



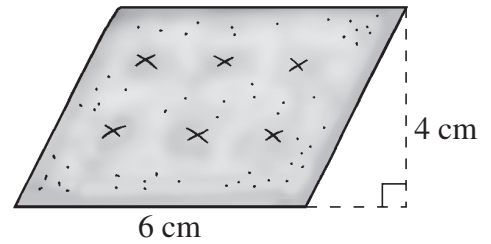
- 1
- 2
- 3
- 4
- 5

平行四邊形	底 (cm)	高 (cm)	面積 (cm ²)
A			
B			
C			
D			
E			

列式計算下列各題。

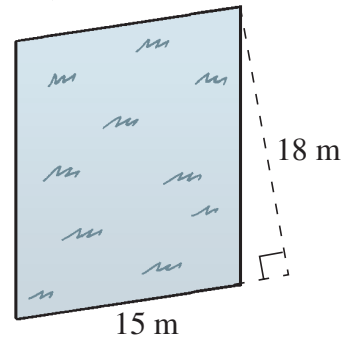
- 6 右圖是一塊平行四邊形的餅乾，它的面積是多少平方厘米？

它的面積是： _____
= _____ (平方厘米)




- 7 右圖是一塊平行四邊形的草地，它的面積是多少平方米？

它的面積是： _____
= _____ (平方米)



- 8 比較下面兩個菱形的面積。



量一量，菱形 F 的邊長是 _____ 厘米，菱形 G 的邊長是 _____ 厘米。

兩個菱形的邊長相等嗎？(相等 / 不相等)

菱形 F 的高是 _____ 厘米。

菱形 F 的面積是： _____
= _____ (平方厘米)

菱形 G 的高是 _____ 厘米。

菱形 G 的面積是： _____
= _____ (平方厘米)

兩個菱形的面積相等嗎？(相等 / 不相等)

菱形有兩組平行的對邊，
所以計算菱形面積的方法，
與計算平行四邊形的
相同。

