

4

異分母分數減法

姓名：_____

班別：_____ 日期：_____

我答對了：



0-5 題



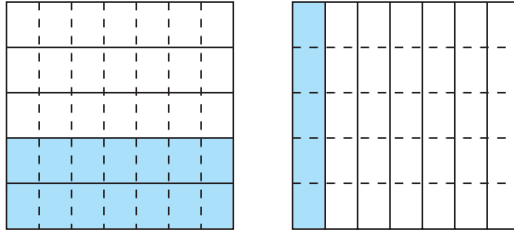
6-10 題



11-15 題

算算看。

$$\begin{aligned} 1 \quad & \frac{2}{5} - \frac{1}{7} \\ & = \underline{\quad\quad} - \underline{\quad\quad} \\ & = \underline{\quad\quad} \end{aligned}$$



$$\begin{aligned} 2 \quad & \frac{11}{12} - \frac{4}{9} \\ & = \underline{\quad\quad\quad\quad\quad\quad} \\ & = \underline{\quad\quad\quad\quad\quad\quad} \end{aligned}$$

12 最初的五個倍數是 _____。

9 最初的五個倍數是 _____。

12 和 9 的最小公倍數是 _____。

$$\begin{aligned} 3 \quad & 4\frac{1}{6} - 2\frac{3}{8} \\ & \underline{\quad\quad\quad\quad\quad\quad} \\ & \underline{\quad\quad\quad\quad\quad\quad} \\ & \underline{\quad\quad\quad\quad\quad\quad} \\ & \underline{\quad\quad\quad\quad\quad\quad} \end{aligned}$$

6 和 8 的最小公倍數是 _____。

 $\frac{4}{24}$ 比 $\frac{9}{24}$ 小，要從整數部分退 1。

$$4 \quad \frac{9}{11} - \frac{4}{9} = \underline{\quad\quad}$$

$$5 \quad \frac{5}{6} - \frac{3}{10} = \underline{\quad\quad}$$

$$6 \quad \frac{2}{3} - \frac{2}{5} = \underline{\quad\quad}$$

$$7 \quad 1\frac{1}{8} - \frac{2}{3} = \underline{\quad\quad}$$

$$8 \quad 2\frac{2}{3} - \frac{3}{5} - \frac{1}{6} = \underline{\quad\quad}$$

$$9 \quad 3\frac{5}{9} - \frac{1}{3} - 1\frac{3}{4} = \underline{\quad\quad}$$


$$10 \quad 4\frac{1}{2} - 2\frac{7}{12} - \frac{7}{8} = \underline{\quad\quad}$$

$$11 \quad 5\frac{1}{8} - 2\frac{1}{2} - 1\frac{5}{6} = \underline{\quad\quad}$$

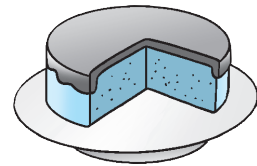
列式計算下列各題。

- 12 秀洪溫習了 $1\frac{2}{5}$ 小時，錦榮溫習了 $\frac{3}{4}$ 小時，秀洪比錦榮多溫習幾小時？

秀洪比錦榮多溫習： _____
= _____
= _____
= _____ (小時)



- 13 蛋糕1個，爸爸吃去 $\frac{1}{8}$ 個，媽媽吃去 $\frac{1}{10}$ 個，還有蛋糕多少個？



- 14 媽媽有 $3\frac{1}{4}$ 升花生油，粟米油比花生油少 $\frac{5}{6}$ 升，芥花籽油比粟米油少 $\frac{1}{12}$ 升。媽媽有芥花籽油多少升？



- 15 有 $7\frac{1}{2}$ 公斤麵粉，做蛋糕用去 $2\frac{3}{4}$ 公斤，做麵包用去 $2\frac{1}{8}$ 公斤，還有麵粉多少公斤？

