



# 12 奇妙的乘法

姓名： \_\_\_\_\_

班別： \_\_\_\_\_ 日期： \_\_\_\_\_

我答對了：

0-5 題 6-11 題 12-16 題

算算看。

$$\begin{aligned} 1 \quad & 3 \times 4 \times 5 \\ & = 3 \times \square \\ & = \square \end{aligned}$$

$$\begin{aligned} 2 \quad & 8 \times 9 \times 15 \\ & = 8 \times \square \times 9 \\ & = \square \times 9 \\ & = \square \end{aligned}$$

試用你認為較快捷的方法，計算下列各題。

$$\begin{aligned} 3 \quad & 25 \times 12 \times 4 \\ & = \underline{\hspace{2cm}} \\ & = \underline{\hspace{2cm}} \\ & = \underline{\hspace{2cm}} \end{aligned}$$

$$\begin{aligned} 4 \quad & 5 \times 35 \times 8 \\ & = \underline{\hspace{2cm}} \\ & = \underline{\hspace{2cm}} \\ & = \underline{\hspace{2cm}} \end{aligned}$$

算算看。

5  $80 \times 12$  •

•  $6 \times 5 \times 8$

6  $10 \times 90$  •

•  $10 \times 12 \times 8$

7  $30 \times 8$  •

•  $15 \times 5 \times 4$

8  $20 \times 15$  •

•  $10 \times 6 \times 15$

計算下列各題。

9  $25 \times 4 = \square$

10  $25 \times 8 = \square$

11  $25 \times 16 = \square$

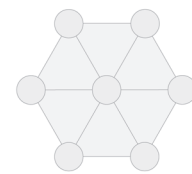
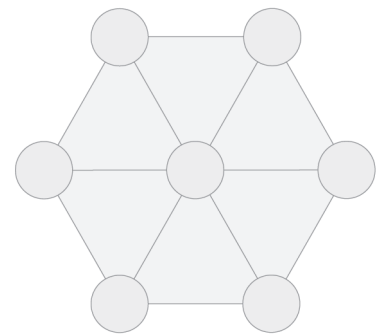
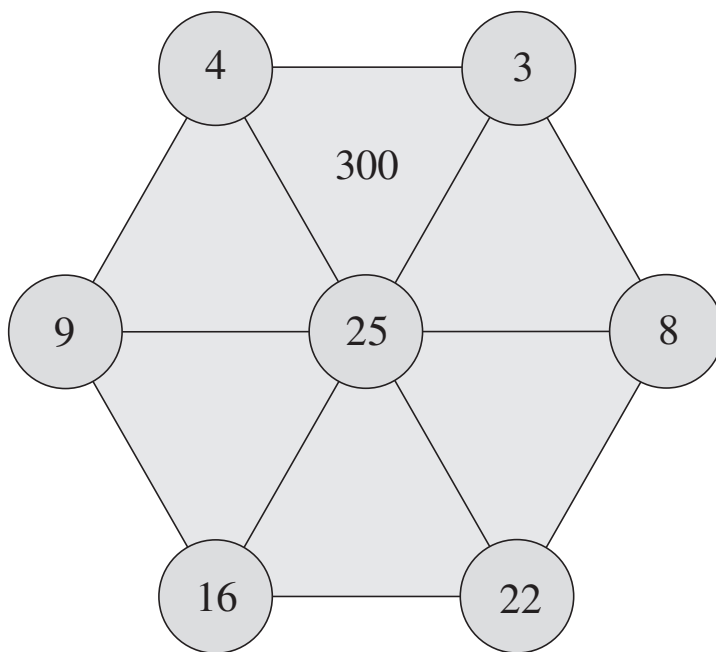
12  $4 \times 15 = \square$

13  $4 \times 35 = \square$

14  $4 \times 55 = \square$

利用以上結果，以較快捷的方法，把下面三角形每個頂端的數相乘，然後把計算結果填在三角形內。

15



16

