



# 10

## 乘法(一)

姓名： \_\_\_\_\_

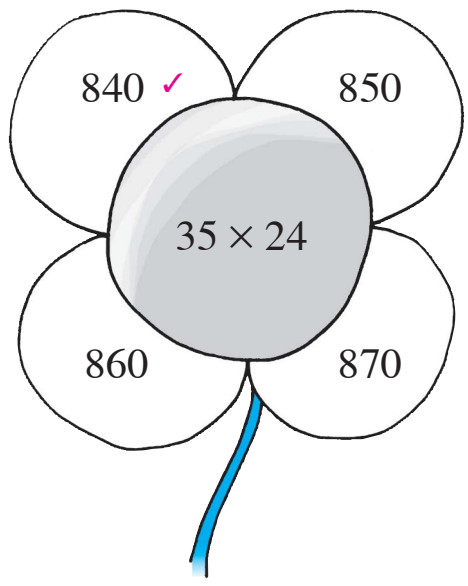
班別： \_\_\_\_\_ 日期： \_\_\_\_\_

我答對了： \_\_\_\_\_

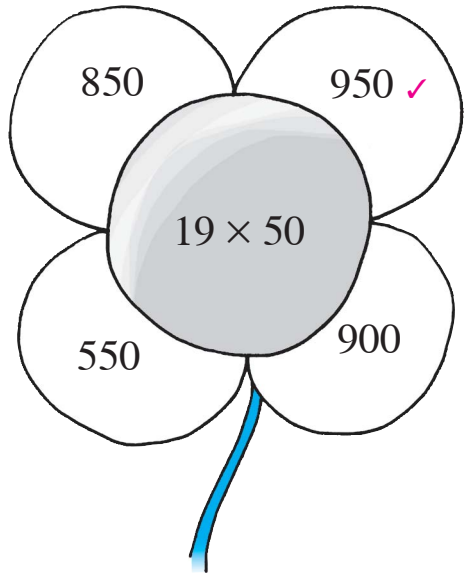
0-5 題 6-10 題 11-14 題

計算下列各題，把答案正確的花瓣填上顏色。

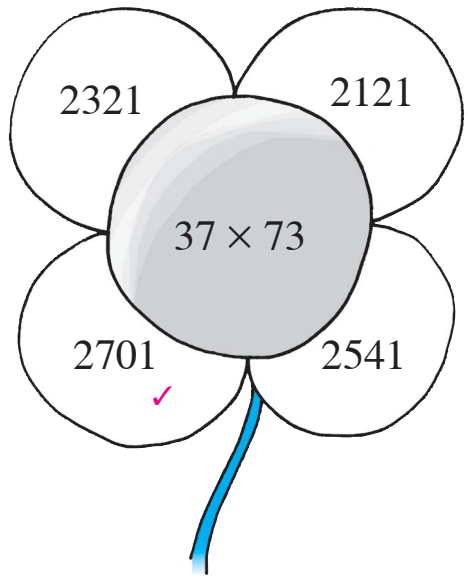
1



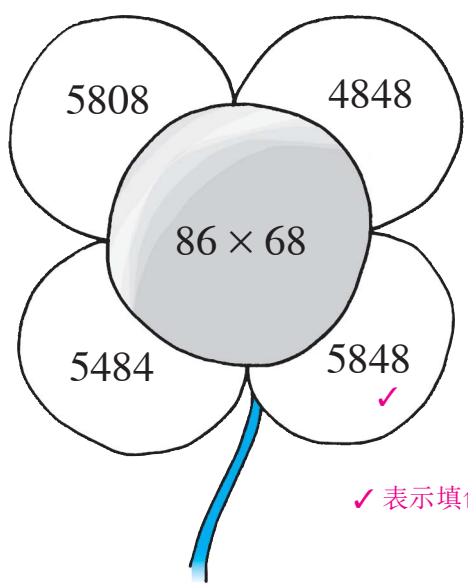
2



3



4



✓ 表示填色

算算看。

5  $22 \times 30 =$

6  $40 \times 15 =$

7  $25 \times 38 =$

8  $11 \times 37 =$

9 
$$\begin{array}{r} 50 \\ \times 60 \\ \hline \end{array}$$

10 
$$\begin{array}{r} 34 \\ \times 26 \\ \hline \end{array}$$

11 
$$\begin{array}{r} 97 \\ \times 63 \\ \hline \end{array}$$

列式計算下列各題。

- 12 每盒喉糖有 12 粒，50 盒共有多少粒？  
共有：

$\times$    
 $=$   (粒)

$$\begin{array}{r} \textcircled{\times} \quad \text{12} \\ \quad \text{50} \\ \hline \text{600} \end{array}$$

- 13 牙醫每天可診治 32 名病人，28 天內可診治病  
人多少名？  
可診治病人：

$32 \times 28$   

---

 $= 896$  (名)

$$\begin{array}{r} 32 \\ \times 28 \\ \hline 640 \\ 256 \\ \hline 896 \end{array}$$

- 14 午餐每份售 24 元，昨天售出 89 份午餐，共得  
多少元？

共得：  

---

 $24 \times 89$   

---

 $= 2136$  (元)

$$\begin{array}{r} 24 \\ \times 89 \\ \hline 1920 \\ 216 \\ \hline 2136 \end{array}$$