



17

除法(三)

姓名： _____

班別： _____ 日期： _____

我答對了：

0-3 題 4-7 題 8-10 題

算一算，並從貼紙頁中取出適當的 貼在空格內。

1

$396 \div 3$

2

$672 \div 3$

3

$858 \div 2$

4

$329 \div 3$

5

$565 \div 4$

6


$429 \div 2$

列式計算下列各題。

- 7 把 630 克的免治牛肉平均分成 3 份，每份有免治牛肉多少克？


每份有免治牛肉：

$$\begin{array}{l} \square \div \square \\ = \square \text{ (克)} \end{array}$$




- 8 有 464 張手工紙，平均分給 4 人，每人可得手工紙多少張？

每人可得手工紙：



- 9 有 489 瓶果汁，裝成每 8 瓶一盒，共可裝成多少盒？餘下果汁多少瓶？



- 10 這裏有 583 粒彩石，一個袋子可裝 5 粒，要把所有彩石裝入袋，最少需要袋子多少個？



即最少需要袋子 _____ 個。

