

1

三位數

姓名：_____

班別：_____ 日期：_____

我答對了：



0-3 題



4-7 題

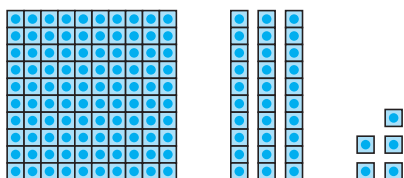


8-10 題

填填看。

1 135 由 _____ 個數字組成，是一個 _____ 位數。

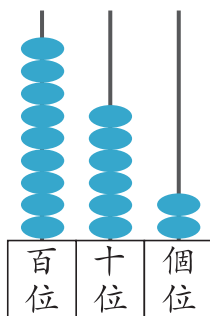
$$135 = 100 + \square + \square$$



百位的數字是 1，表示 _____，
 十位的數字是 _____，表示 _____，
 個位的數字是 _____，表示 _____。

135 讀作 _____。

2

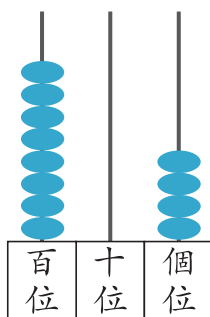


寫作 962，讀作 _____

$$962 = \square + \square + \square$$

百位的數字是 _____，表示 _____，
 十位的數字是 _____，表示 _____，
 個位的數字是 _____，表示 _____。

3




寫作 _____，讀作 _____

$$804 = \square + \square + \square$$


_____ 位的數字是 8，表示 _____，
 _____ 位的數字是 0，表示 _____，
 _____ 位的數字是 4，表示 _____。

依指示填上顏色。


- 4 把編號的百位數字是 2 的巴士填上顏色。



- 5 把編號比 160 大的巴士填上顏色。



- 6 把編號最大的巴士填上黃色，最小的填上藍色。



排排看。

- 7 把 205, 502, 250 由小至大排列：

_____ < _____ < _____

- 8 把 791, 719, 971, 179 由大至小排列：

_____ > _____ > _____ > _____



- 9 把上面球衣的號碼組成一個最大的三位數：_____

- 10 把上面球衣的號碼組成一個最小的三位數：_____