

# 14

## 順數和倒數(1—20)

姓名：\_\_\_\_\_

班別：\_\_\_\_\_ 日期：\_\_\_\_\_

我答對了：



0-5 題




6-10 題



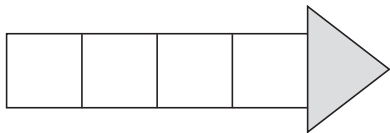
11-14 題

排排看。


1



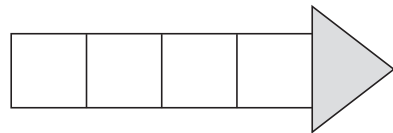
順數：



2




倒數：



在空格內填寫適當的數，再圈圈看。

3




這是（順數 / 倒數）。

4




這是（順數 / 倒數）。

5




這是（順數 / 倒數）。

6




這是（順數 / 倒數）。

7



這是（順數 / 倒數）。

8



這是（順數 / 倒數）。

依指示在空格內填寫適當的數。

橫行：

9 順數 (11 → 17)

10 順數 (7 → 12)

11 倒數 (20 → 12)

直行：

12 倒數 (13 → 7)

13 順數 (14 → 18)

14 順數 (10 → 14)

9	11		13			17		
							14	
				18				
	10	7						
11			18			14		