



# 11 立體圖形

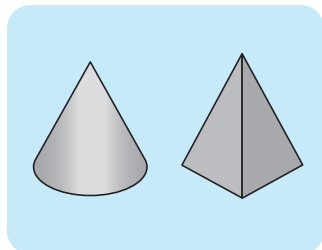
姓名： \_\_\_\_\_

班別： \_\_\_\_\_ 日期： \_\_\_\_\_

我答對了： 0-4 題 5-9 題 10-13 題

連連看。

1

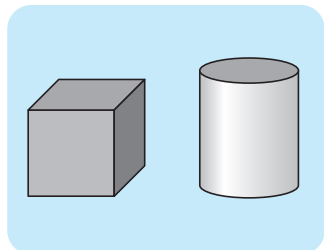


•

•

柱體

2

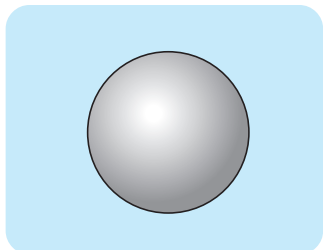


•

•

球體

3



•

•

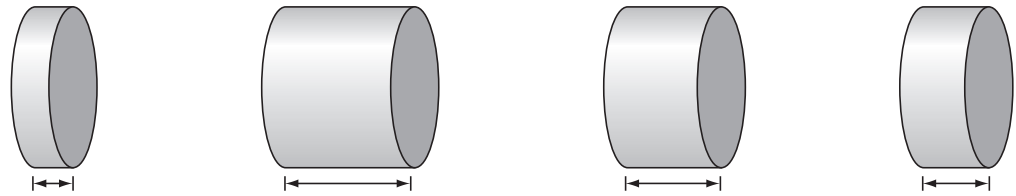
錐體

依指示圈出適當的答案。

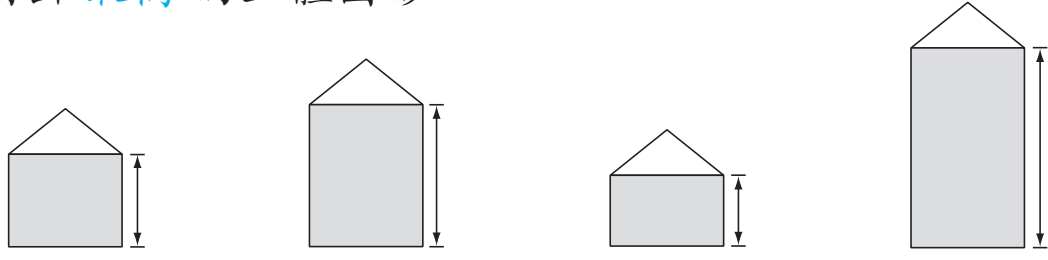
4 圈出最大的立體圖形。



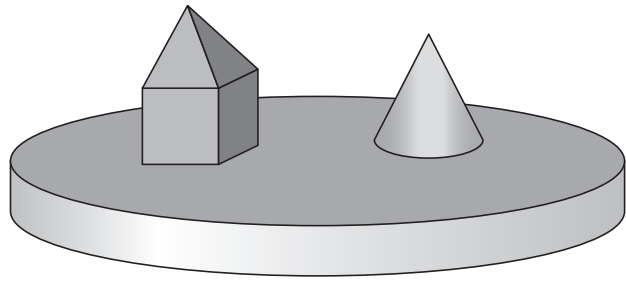
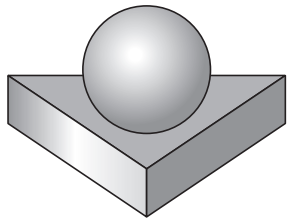
5 圈出最薄的立體圖形。



6 圈出最高的立體圖形。



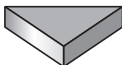

填一填、圈一圈。


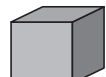




7 數一數，填寫上圖中各種立體圖形的數量。

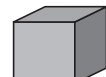

柱體	錐體	球體
個	個	個

以你看圖的方向，圈出適當的答案。

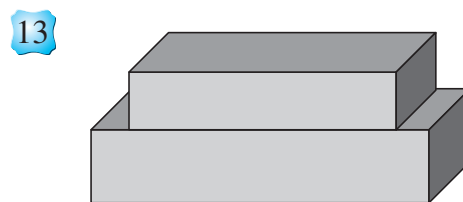
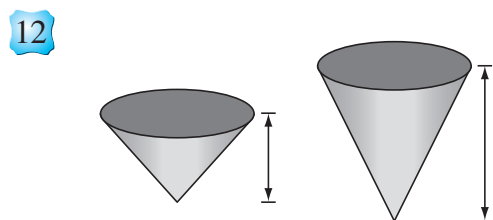
8  在  的 ( 上 / 下 ) 面。

9  在  的 ( 上 / 下 ) 面。

10  在  的 ( 左 / 右 ) 面。

11  在  的 ( 左 / 右 ) 面。

圈出適當的答案。



( 左 / 右 ) 面的立體較高。 ( 上 / 下 ) 面的立體較小。